

学力検査 社会 第1回 解答用紙

答えは、すべてこの解答用紙に書き、解答用紙だけ提出しなさい。

1	(1)	年代の古い順		1	2	3
	(2)	符号				
2	(3)	(4)				
	(1)	市	(2)	W	X	Y
3	(3)	(4)	(1)	①	②	
	(1)	(2)	X - X'	Y - Y'		
4	(3)	(4)	ウ	エ		
	(1)	(2)				
5	(3)	年代の古い順	1	2	3	4
	(1)	符号				
6	(5)					
	(1)	(2)	X	Y	Z	
7	(3)	(4)	(5)			
	(1)					

6	(1)	(2)	(3)
7	(1)		
	(2)		
8	(1)		
	(2)		
	(3)		

受検番号	氏名	総得点
------	----	-----

1 次の文章を読み、あとの(1)~(4)の問いに答えなさい。

右の図は、千葉県の県章です。千葉県の県章はカタカナの「チ」と「ハ」を組み合わせて図案化したものです。千葉県は、関東地方にあり、東側には太平洋が広がっています。また、千葉県の半分以上の面積を占める房総半島は、波の静かな内房と、太平洋に面する外房とがあり、それぞれに観光名所が多く、夏には多くの海水浴客でにぎわいます。



県庁所在地の千葉市は、県の政治・経済・文化の中心であり、関東地方南部の中心都市となっています。産業では、臨海部でさかんな工業に加え、農業や水産業もさかんです。

- (1) 下線部 a に関連して、下の表は、関東地方に属する東京都、千葉県、茨城県、群馬県の面積・人口・産業別就業者の割合についてまとめたものである。千葉県にあてはまるものを表中の ア ~ 工 のうちから一つ選び、その符号を書きなさい。

	面積 (km ²) (2010年)	人口 (千人) (2010年)	産業別就業者の割合(%) (2005年)		
			第1次産業	第2次産業	第3次産業
<u>ア</u>	6,096	2,969	7.4	30.3	60.8
<u>イ</u>	6,362	2,008	6.5	32.8	60.0
<u>ウ</u>	5,157	6,217	3.7	21.7	72.0
<u>エ</u>	2,188	13,162	0.4	18.7	77.4

(注) 分類不能の産業があるため、産業別就業者の割合を合計しても100%にならない。

(「日本国勢図会 2011/2012年版」より作成)

- (2) 下線部 b に関連して、下の ア ~ ウ の文は、日本の文化の歴史について述べたものである。それのできごとを年代の古いものから順に並べ、その符号を書きなさい。

- ア 出雲(島根県)の阿国という女性が始めたかぶき踊りが人気を集めた。
イ 俳諧(俳句)で、小林一茶が農民の素朴な感情をよんだ。
ウ 武士の活躍をえがいた軍記物の「平家物語」が琵琶法師によって語り伝えられた。

- (3) 下線部 c に関連して、下の文章は、現在の日本の大都市に見られる現象について述べたものである。文章中の にあてはまる適当な語を漢字2字で書きなさい。

日本の大都市の中心部には、都心や副都心が形成されている。また、これらのまわりには、住宅地区が広がっており、人口が集中している地域となっている。このような地域を 地域といい、災害時の対策や交通渋滞、日照権などが大きな問題となっている。

- (4) 下線部 d に関連して、下の資料1は日本の漁業種類別生産量の推移、資料2は日本の魚介類の輸出入量の推移、資料3は日本の魚介類の自給率の推移をそれぞれ示したものである。この三つの資料から読み取れることとして最も適当なものを、下の ア ~ エ のうちから一つ選び、その符号を書きなさい。

資料1 日本の漁業種類別生産量の推移 (単位千t)

	1990年	2000年	2008年	2009年
遠洋漁業	1,496	855	474	440
沖合漁業	6,081	2,591	2,581	2,421
沿岸漁業	1,992	1,576	1,319	1,289
海面養殖業	1,273	1,231	1,146	1,197

(注) 捕鯨業を除く。

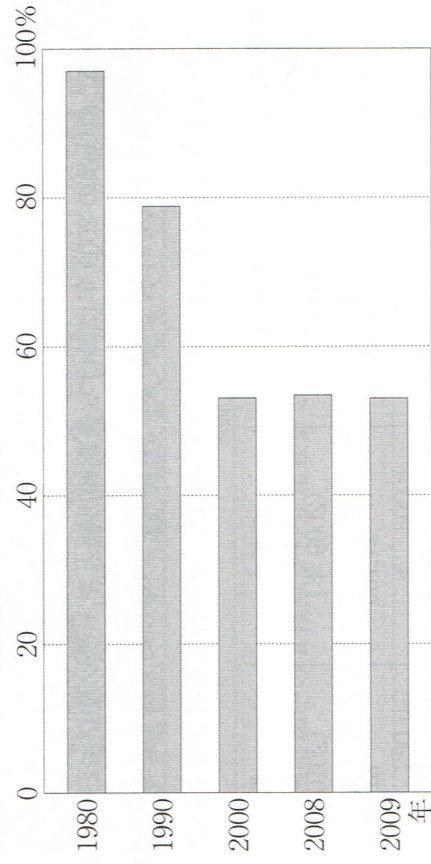
(「日本国勢図会 2001/12年版」より作成)

資料2 日本の魚介類の輸出入量の推移 (単位千t)

	1980年	1990年	2000年	2008年	2009年
輸出量	1,023	1,140	264	645	674
輸入量	1,689	3,823	5,883	4,851	4,500

(「日本国勢図会 2011/12年版」より作成)

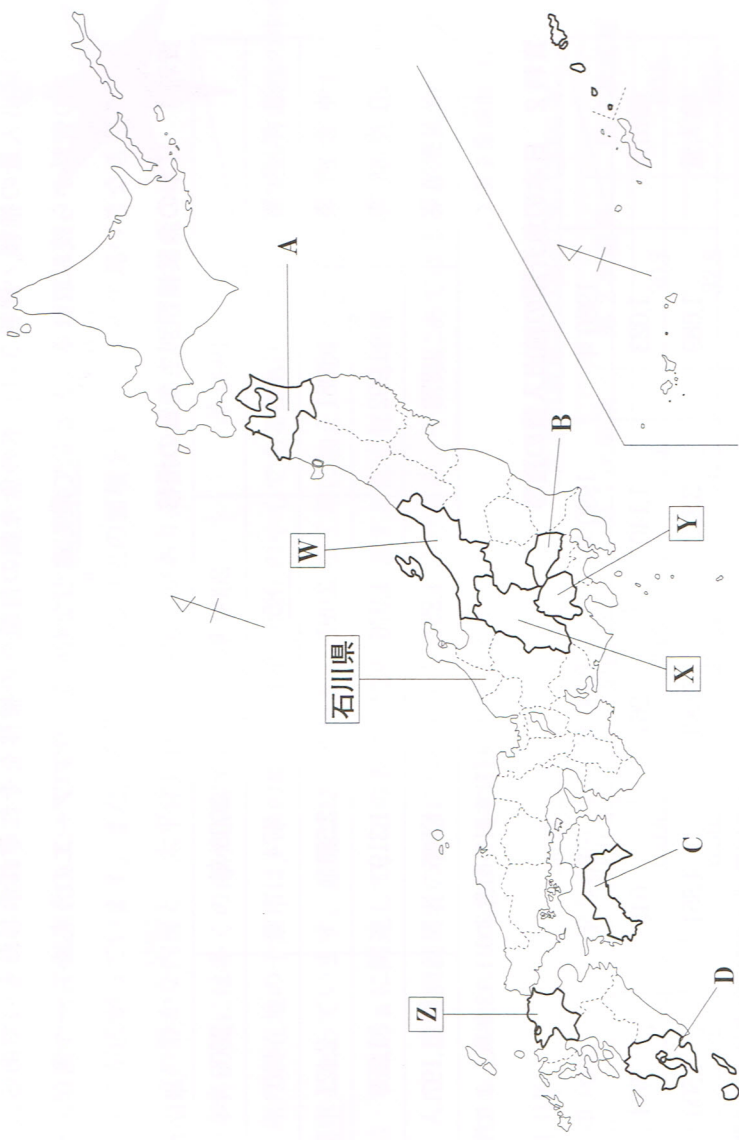
資料3 日本の魚介類の自給率の推移



(「日本国勢図会 2011/12年版」より作成)

- ア 2009年におけるすべての漁業種類別生産量は、1990年の2分の1以下である。
イ すべての漁業種類別生産量は、徐々に減少してきている。
ウ 魚介類の輸出入量は、徐々に減少してきており、輸入量は、徐々に増加してきている。
エ 2009年の魚介類の自給率は、1980年の約2分の1である。

2 次の図を見て、あとの(1)~(4)の問いに答えなさい。



- (1) 図中のA~Dの県のうち、東北地方にあり、県名と県庁所在地名が同じ県が一つある。その県庁所在地名を漢字で書きなさい。
- (2) 下の表は図中のW~Yの3県の2009年における農業産出額とキャベツ及びぶどうの生産量、2010年における米の生産量をそれぞれ示している。W~Yの県にあてはまるものはどれか。表中のア~ウのうちから適当なものをそれぞれ一つずつ選び、その符号を書きなさい。

	農業産出額 (億円) (2009年)	キャベツ (t) (2009年)	ぶどう (t) (2009年)	米 (t) (2010年)
ア	2,130	59,600	27,100	211,800
イ	2,588	15,200	3,210	617,800
ウ	764	4,770	50,600	27,900

- (3) 下の文章は、図中のZの県の産業について述べたものである。文章中の□にあてはまる最も適当な語を書きなさい。

この県は、1901年に操業を開始した八幡製鉄所を土台として工業が発展し、その後も筑豊炭田などを中心に石炭産業が発展していった。しかし、1950年代半ばから1960年代の、燃料や動力がそれまでの石炭から石油にきりかわる□によって、石炭産業は衰退していった。現在では、自動車やIC(集積回路)などの新しい産業が進出し、発展している。

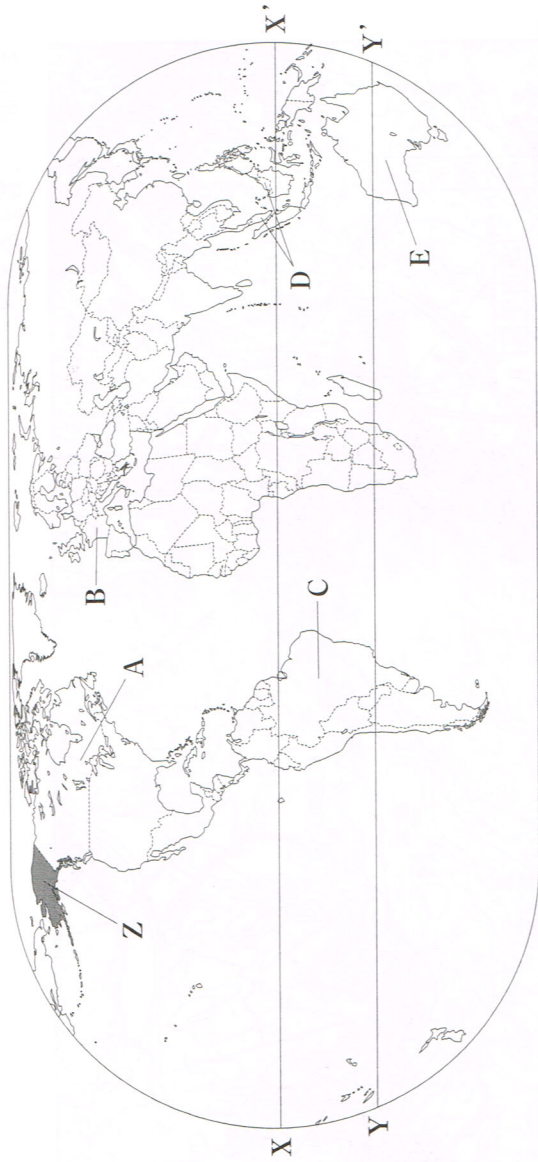
- (4) 下の地形図は、前ページの図中の石川県の一部を示したものである。これを見て、あとの①、②の問いに答えなさい。



めもり
5cm
(国土地理院平成18年発行1:25,000「金沢」原図より作成)

- ① 地形図中のa地点からb地点までの実際の直線距離はおおよそ何mか。下のア~エのうちから最も適当なものを一つ選び、その符号を書きなさい。
- ア 250 m イ 500 m ウ 750 m エ 1000 m
- ② この地形図を正しく読み取ったことがらはどれか。下のア~エのうちから最も適当なものを一つ選び、その符号を書きなさい。
- ア 浄水場の周辺には、高等学校と城跡が見られる。
- イ 「金沢学院大学」の敷地内には、水準点が見られる。
- ウ c地点とd地点の標高差は、40mである。
- エ 「湖南学院」の周辺の土地は、おもに桑畑として利用されている。

3 次の図を見て、あとの(1)~(4)の問いに答えなさい。



(注) 国境に一部未確定部分がある。

(1) 図には、世界の六つの大陸のうち、五つの大陸が描かれている。この図に描かれていない大陸の名称を書きなさい。

(2) 図中のX-X'は赤道、Y-Y'は南回帰線である。X-X'、Y-Y'上でも見られる気候帯は、それぞれどれか。下のア~オのうち最も適当なものをつつ選び、その符号を書きなさい。

- ア 熱帯
- イ 乾燥帯
- ウ 温帯
- エ 冷帯(亜寒帯)
- オ 寒帯

(3) 下の文章は、図中のZの地域について述べたものである。文章中の□□にあてはまる最も適当な語を、カタカナで書きなさい。

この地域は、アラスカ州と呼ばれ、アメリカ合衆国の国土の一部となっている。この州では、先住民の□□が狩猟シカゴなどを行って生活している。

(4) 次の資料1は、オーストラリア、カナダ、ブラジル、フランス及びマレーシアの輸出入総額、及び輸出入額が多い上位3位までの相手国と輸出入総額に占める割合を示したものであり、資料2は、資料1をもとにある班で話し合った内容の一部である。資料1及び資料2の□□と□□にあてはまる国はそれぞれどこか。図中のA~Eのうち最も適当なものをつつ選び、その符号を書きなさい。

資料1 オーストラリア、カナダ、ブラジル、フランス、マレーシアの輸出入総額及び輸出入額が多い上位3位までの相手国と輸出入総額に占める割合 (2009年)

国名	輸出入総額 (百万ドル)			輸出入額が多い上位3位までの相手国と輸出入総額に占める割合(%)		
	輸出	輸入	合計	1位	2位	3位
ア	150,560	126,012	276,572	中国	アメリカ合衆国	アルゼンチン
イ	294,151	294,151	588,302	アメリカ合衆国	イギリス	中国
ウ	484,206	484,206	968,412	ドイツ	イタリア	スペイン
エ	559,646	559,646	1,119,292	ドイツ	ベルギー	イタリア
オ	157,427	123,835	281,262	中国	日本	アメリカ合衆国

(「世界国勢図会 2011/12年版」より作成)

資料2 ある班で話し合った内容の一部

みつお「輸出入総額を見ると、輸出総額と輸入総額を合計した貿易総額が一番多い国は□□だよ。貿易の多くを同じ地域組織に属する国々との間で行っているね。」

としこ「□□と□□は輸出総額が輸入総額を上回る貿易黒字になっているわ。あとの3か国は貿易赤字なのね。」

やすし「アメリカ合衆国への輸出額が一番多い国は□□だね。これは□□がアメリカ合衆国との間で自由貿易協定を結んでいるからなんだ。」

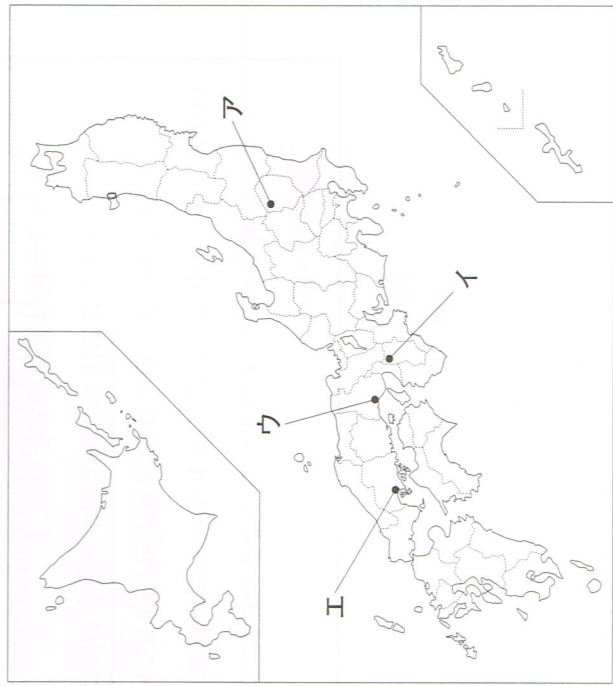
いずみ「多くの国が中国との貿易を行っていることがわかるね。中でも□□は中国との貿易額が5か国の中で一番多いわね。□□は近年、近隣の国々との関係を強めているのよ。」

4 次の略年表を見て、あとの(1)~(5)の問いに答えなさい。

年代	政治に関するおもなできごと	文化に関するおもなできごと
600	聖徳太子が摂政となる。……………A	「古事記」がつくられる。……………B
700	都が平安京に移される。	
800	遣唐使が停止される。	東山文化が栄える。……………D キリスト教が伝わる。 元祿文化が栄える。
900	後三年の役がおこる。……………C	
1000	南北朝が統一される。	
1100	徳川家康が江戸に幕府を開く。	江戸幕府の老中になった松平定信は、徳川吉宗の政治を理想として政治改革を始めた。その内容は、江戸に出てきていた農民を故郷に返してききんに備えさせたり、湯島(東京都)に昌平坂学問所をつくって朱子学を学ばせたりすることであった。また、旗本・御家人を救うために、……………
1200	寛政の改革が始まる。……………E	
1300		
1400		
1500		
1600		
1700		
1800		

(1) Aに関連して、下の文は、この人物に関係の深い建造物について述べたものである。文中で述べられている建造物の位置を、右の図中のア~エのうちから一つ選び、その符号を書きなさい。

法隆寺は、現存する世界最古の木造建築であり、世界遺産に登録されている。



(2) Bに関連して、下の文章は、このころの日本の政治について述べたものである。文章中の□にあてはまる語を漢字2字で書きなさい。

701年、日本では、唐の律令にならった□律令がつくられ、全国を支配するしくみが細かに定められた。これによって日本は、律令によって政治が行われる律令国家の道を歩み始めることとなった。

(3) Cに関連して、下のア~エの文は、このころより以前の日本のできごとである。それぞれのできごとを年代の古いものから順に並べ、その符号を書きなさい。

- ア 都の市では、各地から都に送られてきた産物が売買され、中国にならって和同開珎という貨幣も発行された。
 - イ 中大兄皇子や中臣鎌足が朝廷で権勢をふるっていた蘇我氏を滅ぼし、天皇中心の中央集権国家づくりを目指した。
 - ウ 唐に渡った空海は、帰国後、高野山に金剛峯寺を建てて、真言宗を広めた。
 - エ 口分田から逃亡する農民の増加に困った朝廷は、墾田永年私財法を出し、新しく開墾した土地の私有を認めたため、公地公民制がくずれた。
- (4) Dに関連して、この文化の特徴について述べた文はどれか。下のア~エのうちから最も適当なものの一つを選び、その符号を書きなさい。
- ア 公家と武家の文化が融合した、簡素で気品のある文化である。
 - イ 日本人の生活感情や日本の風土に合った、貴族の文化である。
 - ウ 新興の武士の気風を反映した、素朴で力強い文化である。
 - エ 大名や大商人の経済力を背景とした、豪華で雄大な文化である。

(5) Eに関連して、下の文章は、この改革の内容について述べたものである。文章中の□にあてはまる最も適当なことを、「札差」の語を用いて、20字以内(読点も含む。)で書きなさい。

江戸幕府の老中になった松平定信は、徳川吉宗の政治を理想として政治改革を始めた。その内容は、江戸に出てきていた農民を故郷に返してききんに備えさせたり、湯島(東京都)に昌平坂学問所をつくって朱子学を学ばせたりすることであった。また、旗本・御家人を救うために、□ことにした。

5 社会科の授業で、ひろしさんのグループは、明治時代以降のできごとについて調べることになり、話し合った要点を次の文章A～Eに整理しました。これを読み、あとの(1)～(5)の問いに答えなさい。

A	明治時代、岩倉使節団の一行が欧米を視察している間に、日本国内では、西郷隆盛らを中心に征韓論がおこり、政府内が二つに分かれたが、欧米視察から帰国した大久保利通や岩倉具視らは、国内の近代産業を育成し、国を富ませることが優先であるとして、征韓論に反対した。
B	1904年、日本は朝鮮と満州(中国東北部)の支配をめぐって対立していたロシアに宣戦し、日露戦争が始まった。この戦争のとき、与謝野晶子は「君死にたまふことなかれ」という詩を発表し、戦争反対を訴えた。
C	1914年、オーストリアの皇太子夫妻がセルビアの青年にサラエボという都市で暗殺される事件がおき、これをきっかけにヨーロッパの国々は同盟国側と連合国側に分かれて対立し、第一次世界大戦が始まった。
D	ヒトラーに率いられたナチス・ドイツは、ポーランドを攻撃し、これをきっかけに第二次世界大戦が始まった。また、日本とアメリカ合衆国との間で太平洋戦争が始まった。
E	第二次世界大戦後、日本の領土は北海道・本州・四国・九州やその周りの島々に限られた。また、日本はアメリカ合衆国を中心とする連合国に占領されることとなり、日本の政治はアメリカ合衆国のマッカーサーを最高司令官とするGHQ(連合国軍最高司令官総司令部)の指令のもとにすすめられた。

(1) Aに関連して、このころの日本のできごとについて述べた文はどれか。下のA～Eのうちから最も適当なものを選び、その符号を書きなさい。

- A 全国で世直しを期待して、「ええじゃないか」といって人々が熱狂するさわぎが流行した。
- I 学制が発布され、6歳以上のすべての男女が小学校教育を受けることが定められた。
- ウ 今までの地主・小作関係が改善され、小作農から多くの自作農が生まれた。
- エ 選挙資格の納税制限が撤廃され、25歳以上のすべての男子に選挙権が与えられた。

(2) AとBに関連して、下のX～Zのカードは、AとBの間の時期に日本の外交でおこったできごとについてまとめたものである。それぞれのカードは、次ページの略年表中のどの時期にあてはまるか。A～Eのうちから最も適当なものをそれぞれ一つずつ選び、その符号を書きなさい。

X	Y	Z
イギリス船ノルマントン号が和歌山県沖で沈没し、日本人乗客全員が水死する事件がおきた。	ロシアの南下政策に対抗するたに、日本はイギリスと軍事同盟を結んだ。	日本はロシアとの間で、樺太をロシア領、千島全島を日本領とする条約を結んだ。

年代	できごと
1873	岩倉使節団が欧米から帰国する。 <input type="text" value="ア"/>
1881	自由党が結成される。 <input type="text" value="イ"/>
1889	大日本帝国憲法が発布される。 <input type="text" value="ウ"/>
1895	下関条約が結ばれる。 <input type="text" value="エ"/>
1904	日露戦争が始まる。 <input type="text" value="オ"/>

(3) Cに関連して、このころの日本と中国との間におこったできごとについて述べた文はどれか。下のA～Eのうちから最も適当なものを選び、その符号を書きなさい。

- A 日本の軍部は、中国での権益を確保するため、奉天郊外の柳条湖で満鉄の線路を爆破し軍事行動を開始した。
- イ 扶清滅洋を唱える義和団が北京の各国公使館を包囲すると、日本を主力とする連合軍はこれを鎮圧した。
- ウ 北京郊外の盧溝橋でおこった日中両国軍の武力衝突(盧溝橋事件)により、日中戦争が始まった。
- エ 日本は中国に、山東省のドイツ権益の継承、旅順・大連の租借期間の延長などの二十一か条の要求を示し、その大部分を認めさせた。

(4) Dの下線部に関連して、下の文は、この戦争が始まるきっかけとなったできごとについて述べたものである。文中のX、Yにあてはまる語の組み合わせはどれか。下のA～Eのうちから最も適当なものを選び、その符号を書きなさい。

日本軍は、 <input type="text" value="X"/> の真珠湾を攻撃するのとほぼ同時に、 <input type="text" value="Y"/> 半島に上陸し、太平洋戦争が始まった。

- A X：ハワイ Y：マレー I X：グアム Y：マレー
- ウ X：ハワイ Y：インドシナ E X：グアム Y：インドシナ

(5) Eに関連して、下の文章は、このころの世界のできごとについて述べたものである。文章中のにあてはまる適当な語を書きなさい。

第二次世界大戦後、超大国として大きな力をもつようになつたアメリカ合衆国とソ連は対立するようになり、政治と経済のしくみの大きく異なるおたがいの陣営に、世界の国々を引き入れようと競い合うようになった。また、両国は、おたがいに軍事的に優位に立つとして、核兵器を含む兵器を増強する競争を始めた。このような両陣営のきびしい対立は、直接戦火をまじえないという意味から <input type="text"/> といわれた。

6 次の資料は、社会科の授業で、ある班が日本国憲法と基本的人権について調べ、まとめたものです。これを見て、あとの(1)~(3)の問いに答えなさい。

〈日本国憲法と基本的人権〉

日本国憲法に定められている基本的人権

①平等権——法の下の平等、両性の本質的平等

②自由権—— X の自由……どれい奴隷的拘束及び苦役からの自由、こうそく法定手続きの保障など

③社会権——教育を受ける権利、 の権利、労働基本権(労働三権)など

④基本的人権を守るための権利

新しい人権(日本国憲法に規定されていないが、最近登場してきた人権)

①環境権 ②知る権利 ③プライバシーの権利 ④自己決定権

日本国憲法に定められている国民の三大義務

①子どもに普通教育を受けさせる義務 ② の義務 ③納税の義務

(1) 資料中の X ~ Z にあてはまる語の組み合わせはどれか。下のア~エのうちから最も適当なもの一つを選び、その番号を書きなさい。

- ア X：精神 Y：身体 Z：経済活動
- イ X：身体 Y：経済活動 Z：精神
- ウ X：経済活動 Y：精神 Z：身体
- エ X：身体 Y：精神 Z：経済活動

(2) 資料中の に共通してあてはまる語を漢字2字で書きなさい。

(3) 下線部に関連して、下の文章は、この権利について述べたものである。文章中の ※ にあてはまる語をカタカナで書きなさい。

社会権は、20世紀になってから世界的に認められるようになった、だれもが人間らしい生活を送るための権利のことである。この権利は、 ※ 憲法によってはじめて明文化された。

7 次の文章を読み、あとの(1)、(2)の問いに答えなさい。

日本では、高度経済成長とよばれる急速な経済発展が電化製品の普及の要因となりました。この時期、企業は外国から新しい技術を取り入れて設備を拡張し、新製品を開発して生産を増やしました。人々の所得は増え、それに伴って、消費も拡大され、電化製品は各家庭に普及していきましました。また、電化製品の普及は、女性の社会進出をも促しました。現在、私たちの生活している社会では、さまざまな耐久消費財があふれ、生活に欠かせないものとなつていますが、同時に、大量生産、大量消費に伴って、ごみ問題などの環境問題がおこっていることも、心に留めておかなければなりません。

(1) 下線部 a に関連して、高度経済成長時代には日本各地に公害が発生し、公害問題が深刻化した。右の図1中のア~エは、この時期に日本の四大公害病が発生した地域を示したものである。四大公害病のうち、大気汚染を原因とした公害病が発生した地域を、ア~エのうちから一つ選び、その番号を書きなさい。

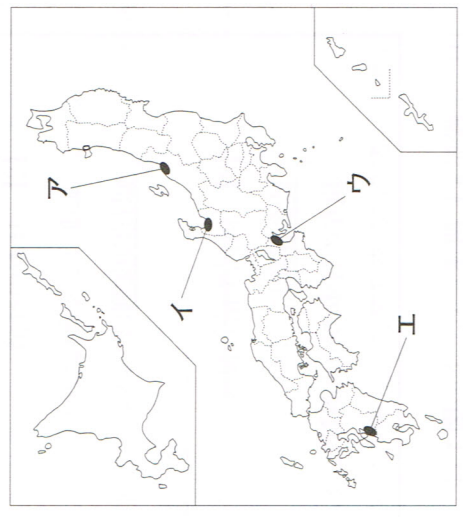


図1

(2) 下線部 b に関連して、下の図2は、日本の働いている女性の割合を年齢別に示したものである。近年、ゆるやかにようになってきているもの、M字型の曲線になる理由を、「出産」、「育児」の二つの語を用いて、30字以内(句読点を含む。)で書きなさい。

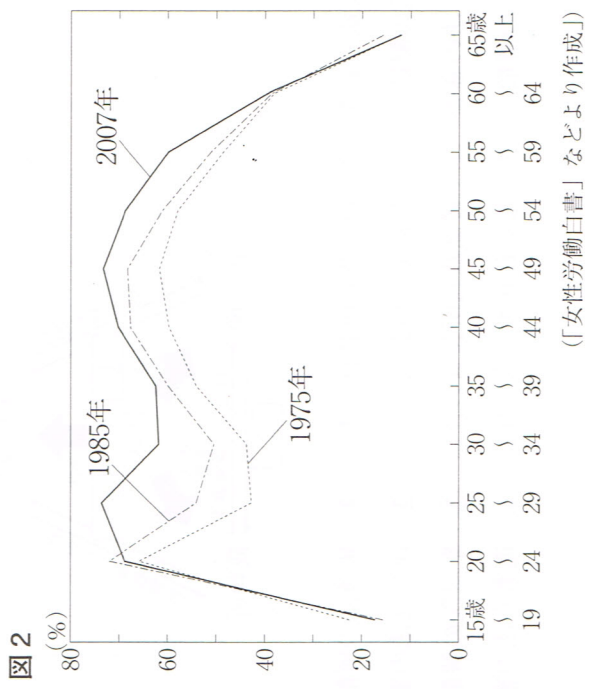


図2

(「女性労働白書」などより作成)

8 あきこさんのクラスでは、班ごとによる社会科の自由研究の発表会で、「日本の政治・経済と国民生活と福祉」というテーマで発表することになりました。次の資料は、あきこさんの班が発表する内容についてまとめたものです。これを見て、あとの(1)～(3)の問いに答えなさい。

※発表するテーマ…〈日本の政治・経済と国民生活と福祉〉(3年□組△班)

※発表する内容〔以下【1】～【3】まで〕

【1】 日本の政治

- ・国^a・内閣・裁判所^aについて
- ・三権の抑制と均衡^aについて

【2】 日本の経済

- ・流通のしくみ^bについて
- ・銀行の役割^bについて

【3】 国民生活と福祉

- ・社会^c保障^cについて
- ・現在の日本の公害対策^cについて

(1) 下線部 a に関連して、下の図 1 は、三つの機関のかかわりについてまとめたものである。図 1 中の ①～③ にあてはまる語の組み合わせはどれか。下のア～エのうち最も適当なものを一つ選び、その符号を書きなさい。

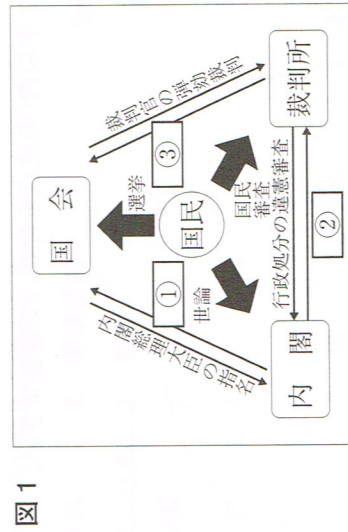


図 1

- ア ①：違憲立法の審査 ②：最高裁判所長官の指名 ③：衆議院の解散
- イ ①：衆議院の解散 ②：最高裁判所長官の指名 ③：違憲立法の審査
- ウ ①：違憲立法の審査 ②：最高裁判所長官の任命 ③：衆議院の解散
- エ ①：衆議院の解散 ②：最高裁判所長官の任命 ③：違憲立法の審査

(2) 下線部 b に関連して、下の図 2 は、銀行と家計・企業の関係を示したものであり、下の文は、図 2 をもとにまとめたものである。文中の □ にあてはまる最も適当なことをばを、「貸しつけ」「預金」「利子」「利潤」の四つの語を用いて、35 字以内(読点も含む。)で書きなさい。

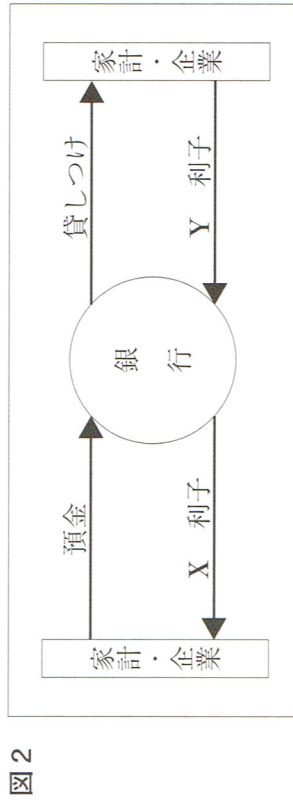


図 2

図 2 中 X, Y の利子のうち、利子率(元金に対する利子の比率)が高いのは Y のほうである。それは □ からである。

(3) 下線部 c に関連して、日本の社会保障制度は、日本国憲法の下の方文の規定にもとづいて整備されている。条文中の □ X にあてはまる数字を書きなさい。

第 X 条〔生存権、国の社会的使命〕

① すべて国民は、健康で文化的な最低限度の生活を営む権利を有する。

② 国は、すべての生活部面について、社会福祉、社会保障及び公衆衛生の向上及び増進に努めなければならない。

学力検査 社会 第2回 解答用紙

答えは、すべてこの解答用紙に書き、解答用紙だけ提出しなさい。

1	(1)	A	B			(2)
	(3)	年代の古い順 符号	1	2	3	(4)
2	(1)	(2)	A	B	C	
	(3)	X		Y		
3	(4)	①		②		
	(1)	(2)				
4	(3)	年代の古い順 符号	1	2	3	4
	(4)					
(5)						
(4)	①	インド	イタリヤ	エチオピア		
(4)	②					
(1)	(2)					

5	(1)	(2)	(3)		
	(4)	I	II	III	(5)
6	(1)	(2)			
	(1)	(2)	(3)		
7	(1)				
	(1)				
8	(2)				
	(3)				

受検番号	氏名	総得点
------	----	-----

1 社会科の授業で、ある班は日本の現代の社会について調べました。この班がまとめた次の文章を読み、あとの(1)～(4)の問いに答えなさい。

現在、世界の中で日本は、産業の大きな転換期を迎えており、今までの産業を魅力のあるものにしていくとともに、新しい産業をどのように育成していくかが今後の日本経済の大きな課題となっています。また、海外に生産拠点を移す日本企業が増え、日本では製造業の生産能力の低下や雇用の減少という問題がおこっています。

(1) 下線部 a に関連して、下の文章は、世界の平和を維持することを最大の目的として発足した国際連合(国連)について述べたものである。文章中の **A**、**B** にあてはまる最も適切な語を書きなさい。

国際連合には、現在、約 190 の国が加盟しており、本部はニューヨークにおかれている。また、国際連合のおもな機関としては、すべての加盟国によって構成される **A** や、5 か国の常任理事国と 10 か国の非常任理事国によって構成される **B** などがある。

(2) 下線部 b に関連して、下の表は、千葉県・島根県・福岡県・宮崎県の県内総生産、就業者総数及び就業者総数に占める産業別就業者数の割合をまとめたものである。千葉県にあてはまるものはどれか。表中の **ア**～**エ**のうち最も適切なもの一つを選び、その符号を書きなさい。

項目	県内総生産 (億円) (2007年度)	就業者総数 (千人) (2007年)	就業者総数に占める産業別就業者数の割合(%) (2007年)		
			第1次産業	第2次産業	第3次産業
ア	35,316	566	11.5	23.3	65.2
イ	25,062	372	8.2	25.8	66.0
ウ	185,109	2,499	3.7	20.9	75.4
エ	196,509	3,180	3.8	21.1	75.1

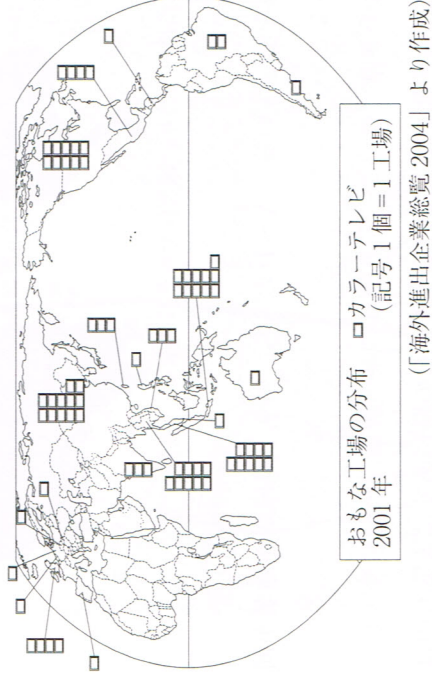
(注)分類不能の産業があるため、就業者総数に占める就業者数の割合を合計しても100%にならない。
(「データでみる県勢 2011年版」より作成)

(3) 下線部 c に関連して、下の **ア**～**ウ**の文は、日本の経済に関する歴史について述べたものである。それぞれのできごとを年代の古いものから順に並べ、その符号を書きなさい。


- ア** 三井・三菱・住友・安田などの財閥が解体された。
- イ** 大商人が株仲間という同業者組織をつくり、幕府の許可を得て営業を独占した。
- ウ** 地租改正が実施され、土地所有者が地価の3%を現金で納めることとなった。

(4) 下線部 d に関連して、下の **資料1** は日本のカラーテレビ工場の海外進出、**資料2** は日本と外国の賃金の差、**資料3** は世界のテレビ総生産台数の各国の割合の変化、**資料4** は国別労働人口を示したものである。**資料1**～**資料4** から読み取ったこととして最も適切なものを、下の **ア**～**エ**のうちから一つ選び、その符号を書きなさい。

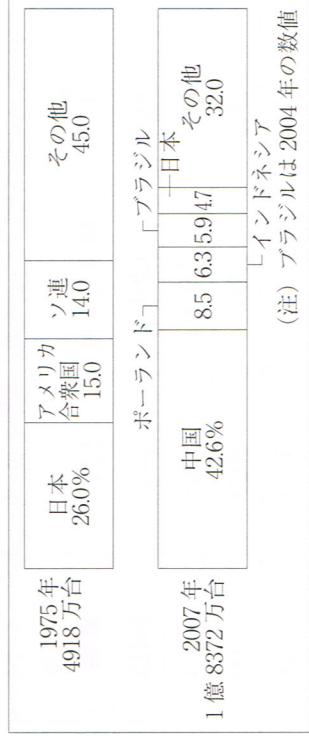
資料1 日本のカラーテレビ工場の海外進出



資料2 日本と外国の賃金の差



資料3 世界のテレビ総生産台数の各国の割合の変化



資料4 国別労働人口(15歳以上)

国名	労働人口(万人)
中 国	79243
イ ン ド	38872
アメリカ合衆国	15429
インドネシア	11195
ロ シ ャ	7576
日 本	6617

(「世界国勢図会 2010/11年版」より作成)

ア 日本がカラーテレビ生産国第1位でなくなつたのは、日本企業が海外に生産拠点を移したことが原因の一つであり、最も多く進出しているのはアジアの国々である。

イ 中国は、安い賃金と豊富な労働力で、カラーテレビの生産をのばし、2007年の世界の総生産数の半分以上を占めている。

ウ インドは、賃金が安く労働力も豊富であるが、日本のカラーテレビ工場は進出しておらず、2007年の世界の生産台数の上位に入っていない。

エ インドネシアには、最も多くの日本のカラーテレビ工場が進出しており、その影響もあり、カラーテレビの生産が急速にのびている。

2 次のA～Dは日本の県のいずれかを示しています。これらの図を見て、あとの(1)～(4)の問いに答えなさい。

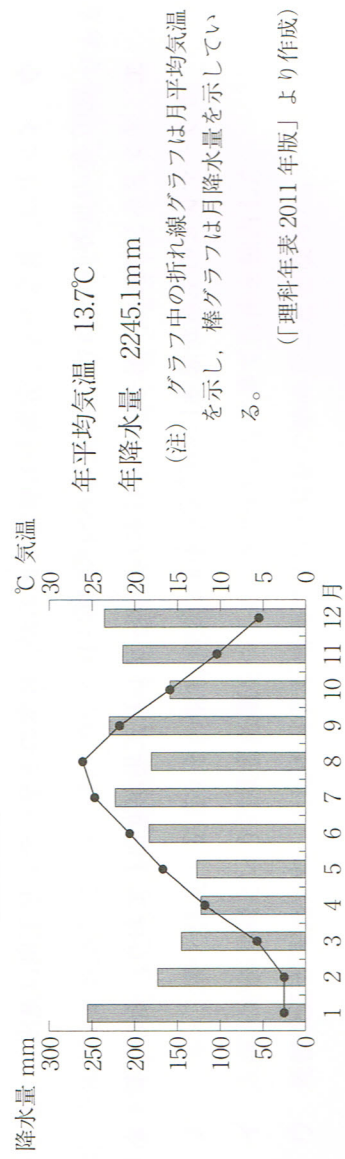


(注)・A～Dとも方位はすべて上が北になるように描いており、縮尺はそれぞれ異なる。
・一部離島は省略してある。

- (1) 図中のa～dは、それぞれ県庁所在地を示している。A～Dのうち、県名と県庁所在地名が同じ県が一つある。その県名を漢字で書きなさい。
- (2) 下の表は図中のA～Dの四つの県及び千葉県について、それぞれの県の製造品出荷額等と食料品、輸送用機械、化学、鉄鋼のそれぞれの出荷額を示している。A～Cの県にあてはまるものはどれか。表中のA～Dのうちから適当なものをそれぞれ一つずつ選び、その符号を書きなさい。

図に示した県	製造品出荷額等 (億円) (2008年)			
	食料品	輸送用機械	化学	鉄鋼
A	165947	13645	15532	24415
I	117808	29938	12268	1323
U	93207	4843	19367	3706
D	39608	1315	1411	2144
千葉県	155080	13008	1794	32392

- (3) 下のグラフは、図中のa～dのいずれかの県庁所在地の月平均気温と月降水量を示したものである。また、下の文章は、この都市で冬の降水量が多くなる理由について説明したものである。文中のX, Yにあてはまる適当な語を書きなさい。



沖合を流れる暖流の X の上を吹いてくる Y の季節風が湿気を含み、山地にぶつかって海側に多くの雪を降らせるから。

(4) 下の地形図は、前ページの図中のA県の図の一部を示したものである。これを見て、下の①、②の問いに答えなさい。



- ① 上の地形図において、「香良洲町」のある地形のようになり、川が運んできた土砂が河口に堆積してできた地形を何とよいか、その地形の名称を書きなさい。
- ② この地形図を正しく読み取ったことがらとはどれか。下のA～Eのうちから最も適当なもの一つを選び、その符号を書きなさい。
- A 「香良洲浦」の実際の長さは、約275mである。
- I 「雲出川」の沿岸には、田や畑のほか果樹園もみられる。
- U 「たかちやや」駅から見て、「雲出大橋」は北北西の方角にある。
- E 「香良洲町」には、郵便局や派出所のほか発電所もみられる。

3 次の図1～図3の略地図を見て、あとの(1)～(4)の問いに答えなさい。ただし、一部の島や国境線は表示していません。また、三つの図の縮尺は異なります。なお、これらの略地図では経線と緯線は直角に交わり、いずれも20度間隔です。

図1

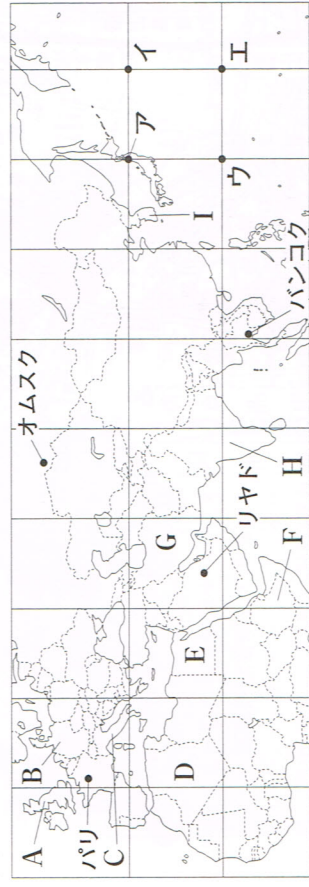
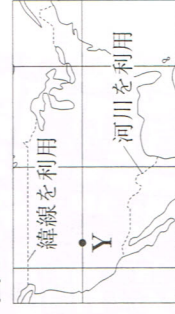


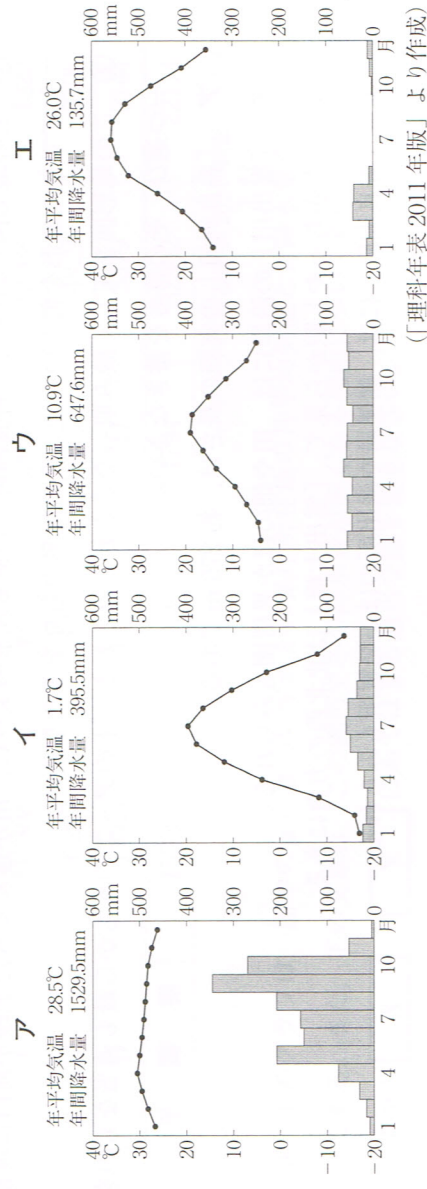
図2



図3



- (1) 図2中のXを通る経線と、図3中のYを通る緯線が交わるのはどこか。図1中のア～エのうち最も適当なものを選び、その符号を書きなさい。
- (2) 下のア～エのグラフは、図1中のパリ、リヤド、オムスク及びバンコクの月ごとの気温と降水量を表したものである。図2中のメルボルンと同じ気候帯に属する都市のグラフはどれか。下のア～エのうち最も適当なものを選び、その符号を書きなさい。



- (3) 国境線には、図3中のアメリカ合衆国を例に示したように、河川など自然の地形を利用した国境線や、経線や緯線を利用した直線の国境線などがある。下の文は、アフリカ大陸に多く見られる直線の国境線について説明したものである。下の文中の□にあてはまる適当なことを「アフリカ大陸」、「分割」の二つの語を用いて、25字以内(読点も含む)で書きなさい。

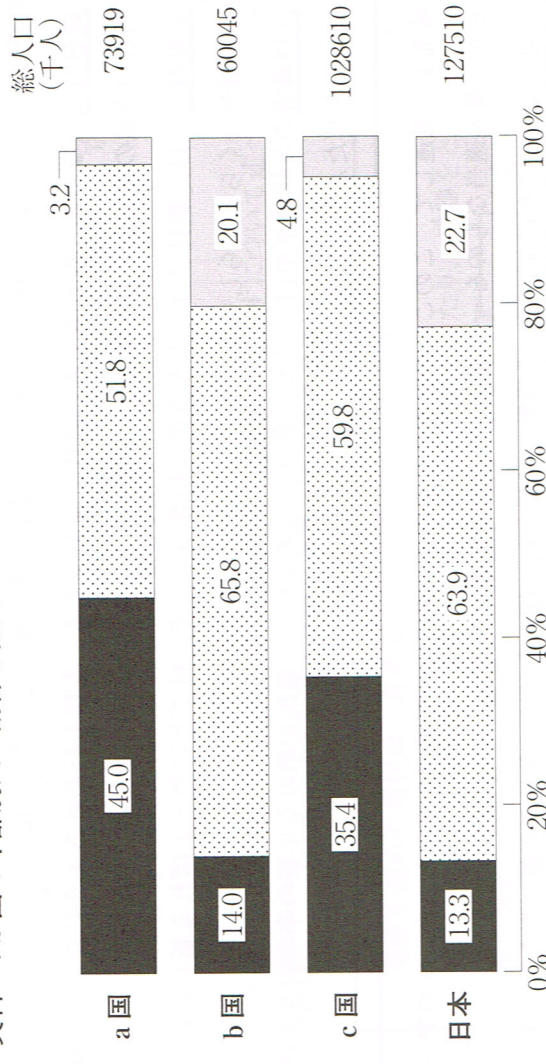
図1中のアフリカ大陸に直線の国境線が多い理由の一つに、かつて□した時に用いた直線的な境界を、現在も国境線として利用している国が多いことがあげられる。

- (4) 下の資料は、日本とインド、イタリア、エチオピアの4か国の年齢別人口割合と総人口を示したものである。これに関して、①、②の問いに答えなさい。

① インド、イタリア、エチオピアの位置を図1中のA～Iのうちからそれぞれ一つずつ選び、その符号を書きなさい。

② 資料中のa国、b国、c国の国名の組み合わせはどれか。下のア～エのうちから最も適当なものを選び、その符号を書きなさい。

資料 4か国の年齢別人口割合と総人口



■ 0～14歳 □ 15～64歳 ▨ 65歳以上

(注) イタリア、日本は2009年、エチオピアは2007年、インドは2001年の統計。年齢別人口割合は、内訳の合計が100%にならない場合がある。

(「世界国勢図会2010/11年版」より作成)

- ア a国：インド b国：イタリア c国：エチオピア
 イ a国：インド b国：エチオピア c国：イタリア
 ウ a国：エチオピア b国：インド c国：イタリア
 エ a国：エチオピア b国：イタリア c国：インド

4 社会科の授業で、あるグループが「日本の農業の歴史」について調べました。そのときの、生徒 A～E の会話を読み、あとの(1)～(5)の問いに答えなさい。

A a 紀元前4世紀ごろ、大陸(おもに朝鮮半島)から渡来した人々によって、稲作が九州北部に伝えられ、やがて東日本にまで広まったらしいよ。

B 奈良時代には、鉄製の農具が広まり、稲の収穫量が増えたけど、自然の災害で田が荒れることが多く、人口も増加したため、743年にb 墾田永年私財法が出され、新しく開墾した土地(墾田)は、いつまでも自分の土地にしてよいことになったんだってね。

C c 鎌倉時代になると、西日本で米の裏作に麦をつくる二毛作も行われるようになり、寺社の門前や交通の便利なところで定期市が開かれるようになったんだよね。

D d 室町時代には、農村では有力な農民の指導のもとで、村ごとに惣(そう)とよばれる新しい自治的な組織がつくられたらしいよ。

E e 江戸幕府の8代将軍徳川吉宗は、享保(きやうほ)の改革を行い、農民が納める年貢の率の引き上げを図ったりしたんだってね。

(1) 下線部 a に関連して、このころの日本の社会のようすについて述べた文はどれか。下のア～エのうちから最も適当なものを選び、その符号を書きなさい。

ア 中国にならって相同開墾(わどうかいけん)という貨幣が発行され、各地から都に送られてきた産物が売買された。

イ 青銅器や鉄器などの金属器が伝わり、弥生土器とよばれる新しい上質の土器がつくられるようになった。

ウ 縄文土器とよばれる表面に縄目のような文様(もんよう)がついている土器がつくられるようになった。

エ 大陸から漢字が伝えられ、渡来人の中には、漢字を使って日本の朝廷の記録を作成する者もいた。

(2) 下線部 b に関連して、この法令が出されたあとの結果について述べた文はどれか。下のア～エのうちから最も適当なものを選び、その符号を書きなさい。

ア 幕府や藩は、土地の開墾に力をそそぎ、海や沼地などを干拓したりして、大規模な新田を開拓した。

イ 土地の開墾に牛馬が利用され、さらに草や木の灰が肥料として使われるようになった。

ウ 政府は、地主がもつ小作地を買い上げ、小作人に安く売りわたした。

エ 貴族・寺院や郡司などは、周りの農民を使ってさかんに開墾を行い、私有地を広げた。

(3) 下線部 c に関連して、下のア～エの文は鎌倉時代におこったことである。それぞれのできごとを年代が古いものから順に並べ、その符号を書きなさい。

ア 北条泰時は、源頼朝以来の武士の先例や慣習に基づいて、御家人同士や御家人と荘園領主の裁判を公平に載(よ)りとるために御成敗式目を制定した。

イ 幕府は御家人の窮状を救おうと、御家人の借金を帳消しにする永仁の徳政令を出したが、あまり効果が上がらず、幕府への反感は強まった。

ウ 元と高麗の連合軍が対馬、壱岐を経て博多湾に上陸し、集団戦法と優れた火器により、日本軍を苦しめたが、引き上げた。

エ 後鳥羽上皇は朝廷の勢力回復をねらい拳兵したが、幕府側が勝利し、京都に朝廷や西国の御家人を監視するために六波羅探題が置かれた。

(4) 下線部 d に関連して、下の文章は、この時代の農民のようすについて述べたものである。文章の中の にあてはまる適当な語を漢字 3 字で書きなさい。

団結を固めた農民は、荘園領主や守護大名にも抵抗するようになり、広い地域にわたって結びつくようになった。また、年貢を減らす交渉をしたり、武器をとっておおかけたり、土倉や酒屋などをおそって借金の証文(しょうもん)をうばったりする をおこすようになった。

(5) 下線部 e に関連して、下の資料は、1649年に江戸幕府が農民に出した慶安の御触書(おふれがき)の一部を示したものであり、下の文章は、この御触書について述べたものである。文章中の にあてはまる最も適当なことを、「農民」「確實」の二つの語を用いて、15字以内(読点も含む)で書きなさい。

資料 慶安の御触書(部分要約)

- 一、朝は早く起きて草を刈り、昼は田畑の耕作をし、晩には縄をない、俵(たわら)をあみ、それぞれの仕事に気をぬくことなほはげむこと。
- 一、酒や茶を買って飲まないようにせよ。
- 一、百姓は雑穀(ぞうこく)を食べ、米を多く食いつぶさぬようにせよ。
- 一、百姓の衣類は、麻(あさ)や木綿(もめん)に限る。

慶安の御触書は、農民の生活の心得(こころえ)を示した法令である。この法令を見ると、農民の生活が細かく規制されているが、幕府がこのように農民の生活を細かく規制したのは、 であった。

5 次の略年表を見て、あとの(1)~(5)の問いに答えなさい。

年 代	日本のおもなできごと	世界のおもなできごと
1840		アヘン戦争が始まる。……………A
1854	日米和親条約が結ばれる。	
1868	五箇条の御誓文が公布される。	
1889	大日本帝国憲法が公布される。	
1904	日露戦争が始まる。……………B	
1914		第一次世界大戦が始まる。……………C
1925	普通選挙法が成立する。……………↑ D	
1945	ポツダム宣言を受諾する。……………↓	
1950		朝鮮戦争が始まる。
1954	自衛隊が設置される。	
1955		アジア・アフリカ会議が開かれる。
1972	沖縄が日本に復帰する。……………E	

(1) A に関連して、下の文章は、この戦争について述べたものである。文章中の X ~ Z にあてはまる語の組み合わせはどれか。下のア~エのうちから最も適当なものを選び、その符号を書きなさい。

X 産の麻葉アヘンをきびしく取りしまった清に対し、 Y は軍艦を送り、清を屈服させた。敗れた清は、 Z をゆずりわたした。

- ア X : インド Y : イギリス Z : 香港
 イ X : インドネシア Y : イギリス Z : 台湾
 ウ X : インド Y : オランダ Z : 台湾
 エ X : インドネシア Y : オランダ Z : 香港

(2) B に関連して、右の資料は、日露戦争直前の欧米列強の関係を示した風刺画であり、ロシアを右のバイブをくわえた熊に、日本を中央の兵士にたとえている。資料中の左側で、日本をロシアに立ち向かわせようと背中を押している兵士にたとえられている国はどこか。下のア~エのうちから最も適当なものを選び、その符号を書きなさい。



- ア フランス イ アメリカ合衆国
 ウ イギリス エ ドイツ

(3) C に関連して、下の文章は、この戦争が始まったきっかけについて述べたものである。文章中の にあてはまる語を漢字3字で書きなさい。

バルカン半島は、「ヨーロッパの 」とよばれ、欧米列強の利害や民族・宗教の対立が絶えなかった。1914年、この半島にあるサラエボという都市で、オーストリアの皇太子夫妻がセルビアの青年に暗殺されたのをきっかけに、第一次世界大戦が始まった。

(4) D に関連して、下のI~IIIのカードは、この時期におこったできごとについてまとめたものである。それぞれのカードは、下の略年表中のどの時期にあてはまるか。 A ~ U のうちから最も適当なものをそれぞれ一つずつ選び、その符号を書きなさい。

I	II	III
陸軍の青年将校らが首相官邸や警視庁などを襲い、軍事政権をつくって政治改革を行おうとしたが、失敗に終わった。	挙国一致して戦争に協力する体制をつくるために、ほとんどの政党は解散し、新たに結成された大政翼賛会に合流した。	中国奉天郊外にある柳条湖で関東軍が南満州鉄道の線路を爆破したことをきっかけに、軍事行動を開始し、満州の主要部を占領した。

年 代	で き ご と
1925	治安維持法が制定される。 <input type="text"/> A
1933	国際連盟を脱退する。 <input type="text"/> イ
1938	国家総動員法が公布される。 <input type="text"/> ウ
1945	広島に原子爆弾が投下される。

(5) E に関連して、このころの日本の日本のできごとについて述べた文はどれか。下のア~エのうちから最も適当なものを選び、その符号を書きなさい。

ア アジアではじめてのオリンピックが日本で開催された。
 イ 日中共同声明が発表され、日本と中国の国交が正常化した。
 ウ 日ソ共同宣言が発表され、日本は国際社会に復帰した。
 エ 韓国との間で日韓基本条約を結んだ。

6 社会科の授業で、みなこさんの班は、基本的人権について調べました。みなこさんの班がまとめた次の文章を読み、あとの(1)、(2)の問いに答えなさい。

日本では、明治時代にヨーロッパで発展した人権思想がもちこまれ、ヨーロッパの法制度を手本にして近代化がすすめられました。そして、1889年に大日本帝国憲法が制定されました。この憲法では、天皇を主権者として、人権は、天皇が恩恵によって与えた「臣民の権利」であるとして、いくつかの自由や権利を認めていましたが、法律によって制限されるものとされていました。実際の社会においても、政府を批判する政治活動や自由な言論が抑圧されました。

これに対して、第二次世界大戦後に制定された日本国憲法では、国民を主権者とし、人権は、侵すことのできなない永久の権利と明記するなど、人権の保障をいちじるしく強化しています。例えば、誰もが自由に人間らしく生きていくことができるように、平等権、自由権、社会権、参政権などの基本的人権を保障しています。このように日本国憲法では、公共の福祉に反しない限り、基本的人権を最大限に尊重しています。

(1) 下線部 a に関連して、下の文章は、人権思想の発展にかかわったヨーロッパの思想家について述べたものである。文章中の X、Y、Z にあてはまる人物名の組み合わせはどれか。下のア～エのうちから最も適当なものを選び、その符号を書きなさい。

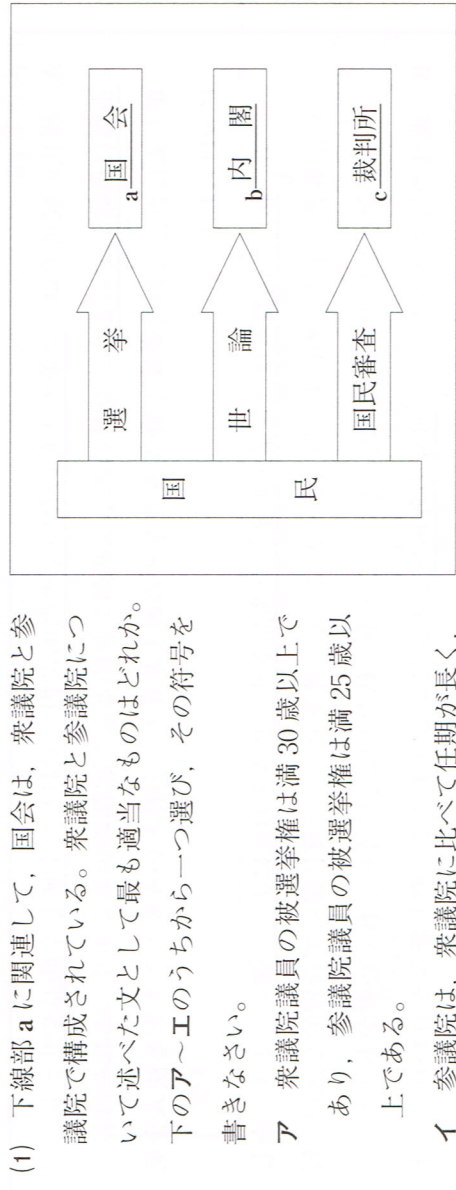
イギリスの思想家であった X は、「市民政府二論」を著して民主政治を説いた。フランスの思想家であった Y は、「法の精神」を著して三権分立を説き、同じくフランスの思想家であった Z は、「社会契約論」を著して人民主権を説いた。彼らの人権思想は、近代の市民革命を強力に支えるものであった。

- ア X：ロック Y：モンテスキュー Z：ルソー
 イ X：ルソー Y：モンテスキュー Z：ロック
 ウ X：ロック Y：ルソー Z：モンテスキュー
 エ X：ルソー Y：ロック Z：モンテスキュー

(2) 下線部 b に関連して、日本国憲法第14条では、下のように述べている。文中の X にあてはまる語を書きなさい。

すべて国民は、X の下に平等であって、人種、信条、性別、社会的身分又は門地により、政治的、経済的又は社会的関係において、差別されない。

7 社会科の授業で、あすかさんの班では、「日本の政治のしくみ」というテーマで調べ学習をし、下の図を作成しました。これを見て、あとの(1)～(3)の問いに答えなさい。



(2) 下線部 b に関連して、内閣総理大臣とすべての国務大臣が出席して行われる内閣の会議を何とよぶか。下のア～エのうちから最も適当なものを選び、その符号を書きなさい。

ア 公聴会 イ 本会議 ウ 特別会 エ 閣議

(3) 下線部 c に関連して、下の図は、地方裁判所で最初に裁判が行われた場合に、一般に控訴、上告できる裁判所を示したものである。図中の X、Y にあてはまる語の組み合わせはどれか。下のア～エのうちから最も適当なものを選び、その符号を書きなさい。



- ア X：高等 Y：家庭 イ X：高等 Y：簡易
 ウ X：最高 Y：家庭 エ X：最高 Y：高等

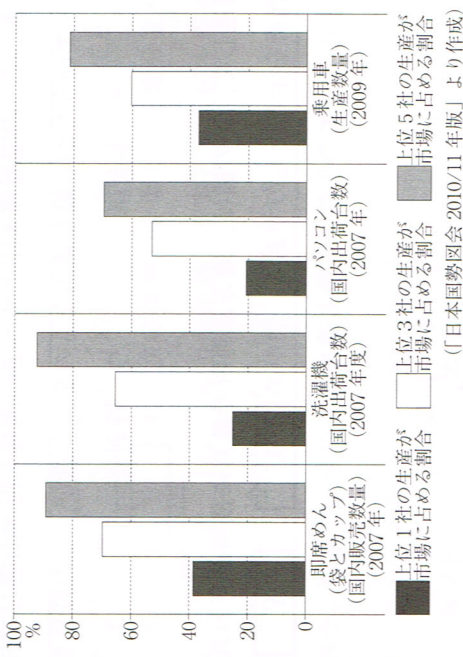
8 社会科の授業で、ともさんの班では、「経済と国際社会」というテーマで話し合いの場を持ち、次のA、Bの文章にまとめました。これらを読み、あとの(1)~(3)の問いに答えなさい。

A 現代の経済では、企業が生産の役割を専門的に担っており、生産した商品やサービスを市場に供給しています。^a 企業の多くは利潤を目的とした民間の企業であり、これらは私企業とよばれ、一般に農家や個人商店などの個人企業と、会社というかたちをとる法人企業に分けられます。

一方、私たち消費者は、企業が生産した商品やサービスをお金によって購入します。 かしい消費者になるためにも、収入をもとにして予算を立て、予算に従って合理的な選択を行うことが望ましい消費活動であるということを、私たちは心に留めておく必要があります。

B 地球環境を守るために、世界の各地域で市民によるさまざまな取り組みが行われています。^c また、私たち個人も、地球環境を守る努力をしなければなりません。

(1) 下線部 a に関連して、下の図は、即席めん(袋とカップ)、洗濯機、パソコン及び乗用車の四つの商品の、上位1社、上位3社及び上位5社の生産が市場に占める割合についてまとめたものである。図から読み取れることとして最も適当なものを、下のア~エのうちから一つ選び、その符号を書きなさい。



ア 即席めんと洗濯機の市場は、ともに上位3社の生産が市場に占める割合が60%を下回っているが、上位5社では80%を上回っている。

イ 洗濯機とパソコンの市場は、ともに上位1社の生産が市場に占める割合が20%を上回っているが、上位3社では50%を下回っている。

ウ 洗濯機と乗用車の市場は、ともに上位3社の生産が市場に占める割合が60%を越えており、上位5社では90%を越えている。

エ 即席めんと乗用車の市場は、ともに上位1社の生産が市場に占める割合が30%を越えており、上位5社では80%を越えている。

(2) 下線部 b に関連して、企業が生産した商品を購入する消費者の権利を守るために、1995年に製造物責任法(PL法)が施行された。この製造物責任法について述べた下の文中の [] にあてはまる最も適当なことを、[] を使って、「企業」「過失」「救済」の三つの語を用いて、35字以内(読点も含む。)で書きなさい。

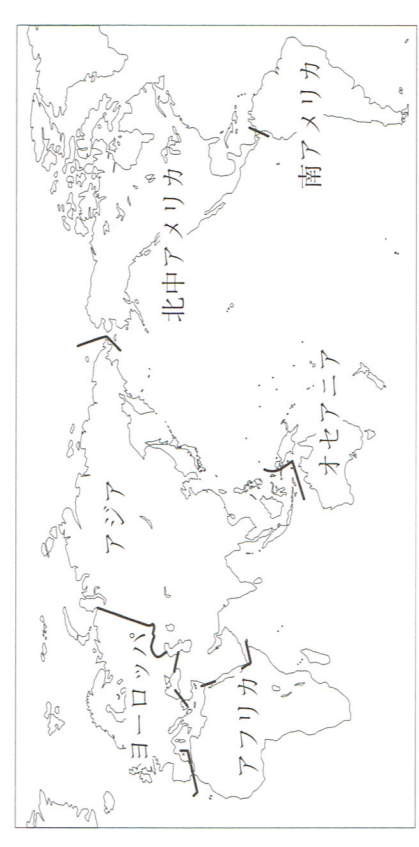
この法律は、製品の欠陥によって消費者が被害をこうむった場合、[] というものである。

(3) 下線部 c に関連して、下の表は、下の図中に示した六つの地域における1960年から2010年までの人口の推移を示したものである。表から読み取れることとして最も適当なものを、下のア~エのうちから一つ選び、その符号を書きなさい。

世界の人口推移 (単位：百万人)

	1960年	1970年	1980年	1990年	2000年	2010年
ヨーロッパ	604	656	693	721	727	733
アジア	285	367	482	639	819	1,033
オセアニア	1,694	2,125	2,623	3,179	3,698	4,167
北中アメリカ	16	20	23	27	31	36
南アメリカ	276	325	378	430	493	541
世界計	148	192	242	297	347	392
世界計	3,023	3,686	4,438	5,290	6,115	6,909

(「日本国勢図会 2011/12年版」などより作成)



ア 1970年から2010年までの間に人口が減少している地域が見られる。

イ 2010年に世界人口は、1970年の世界人口の3倍以上となっている。

ウ 2010年のアジアの人口は、2010年の世界人口の半分以下となっている。

エ 1970年から2010年までの間に、人口増加率が最も高い地域はアフリカである。

学力検査 社会 第3回 解答用紙

答えは、すべてこの解答用紙に書き、解答用紙だけ提出しなさい。

	(1)	年代の古い順		1	2	3	(2)
	(3)						
1	(4)	資料1	資料2	資料3			
	(1)	(2)	X	Y	Z		
2	(3)	(4)	①	②			
	(1)	(2)	(3)				
3	①						
	(4)	アラブ首長国連邦	インドネシア			オーストラリア	
4	(1)	(2)	(3)	(4)			
	(5)	年代の古い順		1	2	3	4
5	(1)	(2)	(3)				
	(4)						
(5)	時期	県					

6	(1)						
	(2)						
7	(1)						
	(2)						
8	(1)	(2)					
	(3)	年代の古い順	1	2	3	符号	

受検番号	氏名	総得点
------	----	-----

1 次の文章を読み、あとの(1)~(4)の問いに答えなさい。

a 中国は古い歴史を持ち、東アジアの政治・経済・文化の中心として、まわりの国々に大きな影響を与えてきました。19世紀の半ば以後、欧米諸国や日本^bの進出がさかんになり、おもな鉄道・工場・鉱山を他の国々に支配されるなど、半ば植民地の状態におかれています。1949年に中華人民共和国が成立してからは、新しい国家のしくみのもとで、農業や鉱工業などの発展につとめてきました。1971年には、国際連合の代表権を得て、世界における地位も高まりました。

東南アジアは16世紀に入ると、この地域の豊かな資源を求めてヨーロッパ諸国の進出が始まり、その後、大部分が植民地化され、この地方の気候に適した農作物を栽培するプランテーションなどが開かれました。第二次世界大戦後、多くの国々は独立し、新しい国づくりがすすめられました。また、日本人の中には、16世紀末からこの地域との交易をする人たちもあらわれ、17世紀のはじめには、朱印船による貿易がさかんになるにつれて日本町がつくられたこともありました。最近では、東南アジアの国々と日本との貿易面のつながりが増し、日本からも企業が進出するなど、経済的な結びつきが強まっています。

(1) 下線部 a に関連して、下のア~ウの文は、さまざまな時代の中国の様子を示したものである。それぞれのできごとと年代の古いものから順に並べ、その符号を書きなさい。

- ア 唐は律令などの法律をつくり、戸籍に登録した人々に土地を与え、税や兵役を負擔させるなど支配のしくみを整えた。
- イ モンゴル帝国5代皇帝フビライは都を大都に移し、国号を元と改めて、南宋を滅ぼし中国全土を支配した。
- ウ 後漢が滅んだ後、魏・呉・蜀の三国が中国を分割し、支配していた。

(2) 下線部 b に関連して、日本の地形の特徴について述べた文として最も適当なものを、下のア~エのうちから一つ選び、その符号を書きなさい。

- ア 河川は幅が広く、ゆるやかに流れ、全長が1000 kmをこすものもある。
- イ 盆地は、周囲の山なみが見えないほどに規模が大きく、浅い盆のように平らなものが多い。
- ウ 平野は、氷河の浸食作用によって生まれたものが多い。
- エ 山地は、国土のおよそ4分の3を占め、高原状の地形などもある。

(3) 下線部 c に関連して、文中の にあてはまる最も適当な語を、カタカナ5字で書きなさい。

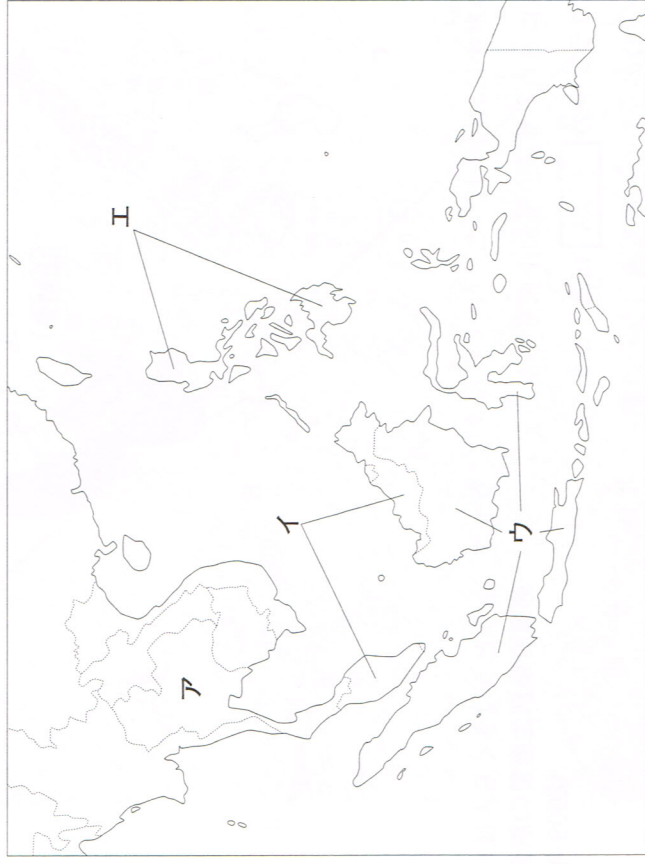
ニッケル・コバルト・タングステンなどの希少金属、いわゆる は先端技術に欠かせないものになっているが、とくにレアアースは中国が世界市場の90%以上を独占して問題になっている。

(4) 下線部 d に関連して、かずおさんは、東南アジアの国々について調べてみた。

はじめに、インドネシア、タイ、フィリピン、マレーシアの四つの国を選び、その位置を調べ、その位置を調べるため資料1を作成した。次に、人口と面積、穀物や米・小麦・とうもろこしの穀物自給率を調べ、資料2を作成した。また、日本との貿易を調べるために、資料3を作成した。

これらの資料1~資料3の中から、タイについてあてはまる最も適当なものを、各資料のA~エのうちからそれぞれ一つ選び、その符号を書きなさい。

資料1 インドネシア、タイ、フィリピン、マレーシアの位置



資料2 インドネシア、タイ、フィリピン、マレーシアの人口と面積、穀物自給率

	人口 (千人) (2009年)	面積 (千km ²) (2007年)	穀物自給率 (%) (2007年)	米	小麦	とうもろこし
A	229965	1860	92	104	0	95
I	27468	331	23	73	0	3
U	91983	300	85	89	0	113
E	67764	513	162	197	0	109

(「世界国勢図会 2010/11年版」より作成)

資料3 インドネシア、タイ、フィリピン、マレーシアの日本へのおもな輸出品とその金額

	(2010年) 百万円	(2010年) 百万円	(2010年) 百万円
日本へのおもな輸出品	636,902	545,749	748,926
機械類	291,530	293,979	556,904
果実	82,848	258,248	72,212
銅鉄	23,626	220,363	68,121
科学光学機器	21,066	195,199	45,395
プラスチック製品	17,064	106,800	42,132
自動車部品	16,140	92,841	36,378
魚介類	15,142	79,294	25,812
計×	694,781	2,476,179	1,987,447

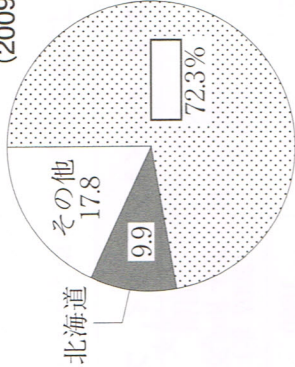
(「日本国勢図会 2011/12年版」より作成)

2 次の図を見て、あとの(1)~(4)の問いに答えなさい。



(1) 右のグラフは、2009年におけるおうとう(さくらんぼ)の日本全国の生産量に占める都道府県別生産量の割合を示したものである。グラフ中の□にあてはまる県はどこか。図中のA~Dのうちから最も適当なものを選び、その符号を書きなさい。

グラフ おうとう(さくらんぼ)の都道府県別生産量の割合 (2009年)



(2) 下の表は、図中の[X]~[Z]の三つの都府県及び千葉県の人口、県内総生産、製造品出荷額等、小売業販売額を示したものである。[X]~[Z]の都府県にあてはまるものはどれか。表中のA~ウのうちから適当なものを選び、その符号を書きなさい。

図に示した都府県	人口(千人)(2009年)	県内総生産(億円)(2007年度)	製造品出荷額等(億円)(2008年)	小売業販売額(十億円)(2007年)
A	7418	371719	466186	8292
I	8801	389218	184033	9651
ウ	12868	923005	104819	17279
千葉	6139	196509	155080	5755

(「データでみる県勢2011年版」より作成)

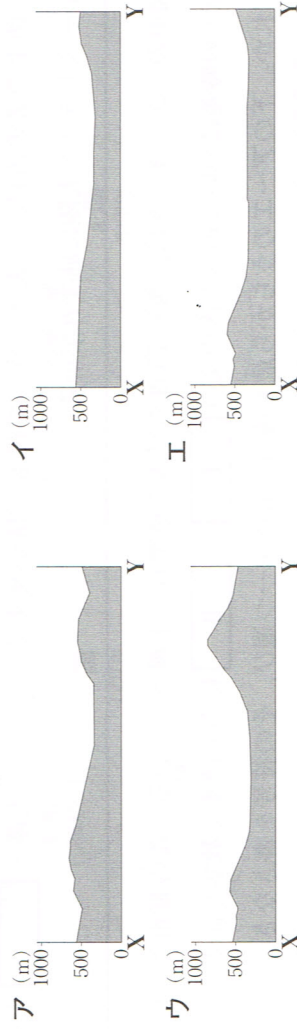
(3) 図中の●で示した地域では、夏、気温が上がらないうと、農作物の実りが悪くなることがある。梅雨時期から夏にかけて、おもに東北地方の太平洋側に吹く冷たい北東の風を何と〇うか。その名称を書きなさい。

(4) 下の地形図は、前のページの図中の山梨県の一部を示したものである。これを見て、下の①、②の問いに答えなさい。



① 地形図中のX~Y間の土地の起伏を表しているものはどれか。下のA~Iのうちから最も適当なものを選び、その符号を書きなさい。

(2) この地形図を正しく読み取ったことからはどれか。下のA~Iのうちから最も適当なものを選び、その符号を書きなさい。



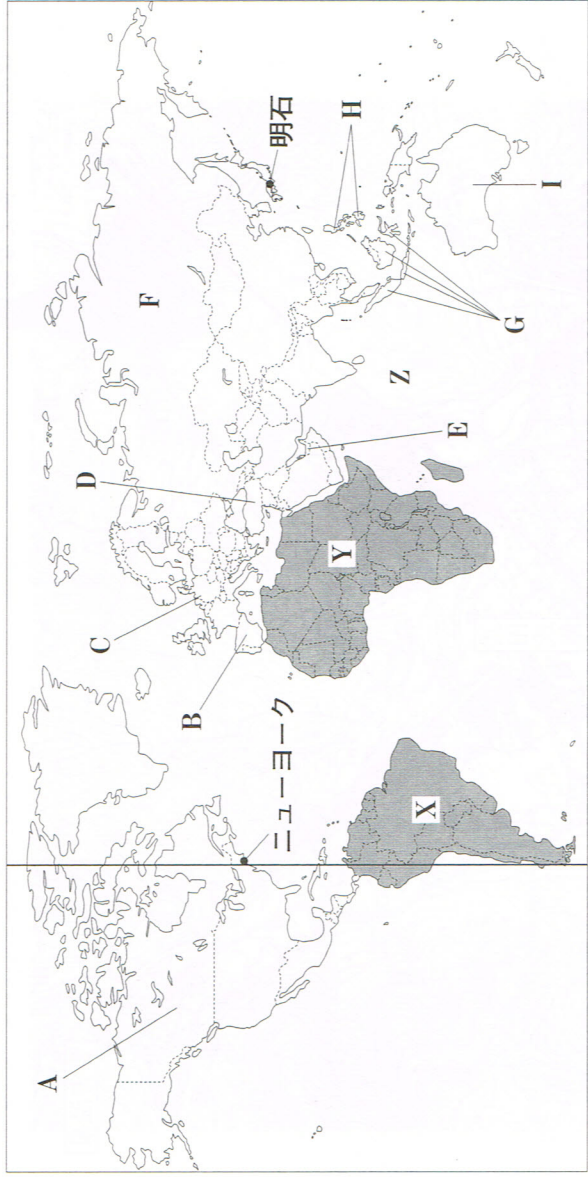
A この地形図の中には、小学校や中学校はないが、高等学校はある。

I この地形図の中央部には扇状地が広がり、扇状地には水田が見られる。

U 「武田氏館跡」から「武田信玄の墓」まで直線距離で約2kmある。

E 「山梨大学」からみると、「要害温泉」は南西の方角にある。

3 次の図を見て、あとの(1)～(4)の問いに答えなさい。



(注) 国境に一部未確定部分がある。

(1) 図中のX, Yは世界を六つの州に分けたときの二つの州である。X, Yそれぞれの州に入る国の組み合わせはどれか。下のア～エのうち最も適当なものを選び、その符号を書きなさい。

- ア X：スペイン・ギリシャ Y：カナダ・キューバ
- イ X：アルゼンチン・エクアドル Y：エジプト・ナイジェリア
- ウ X：ガーナ・エチオピア Y：ニュージーランド・フィジー
- エ X：トルコ・サウジアラビア Y：ボリビア・ウルグアイ

(2) 下の文は、図中のZの海について述べたものである。文中の□にあてはまる最も適当な語を書きなさい。

図中のZの海は、三大洋のうちで最も面積がせまく、アフリカ大陸・□大陸・オーストラリア大陸に囲まれている。

(3) 図中のニューヨークは、西経75度の経線を標準時子午線としている。この都市と、日本の明石市との時差について述べた次の文の□I, □IIにあてはまる数字や語の組み合わせはどれか。下のア～エのうち最も適当なものを選び、その符号を書きなさい。ただし、夏時間の適用はないものとし、日本の標準時子午線は東経135度とする。

ニューヨークと明石市の時差は□I時間で、□IIのほうが時刻が進んでいる。

- ア I：4時間 II：ニューヨーク I：4時間 II：明石市
- ウ I：14時間 II：ニューヨーク I：14時間 II：明石市

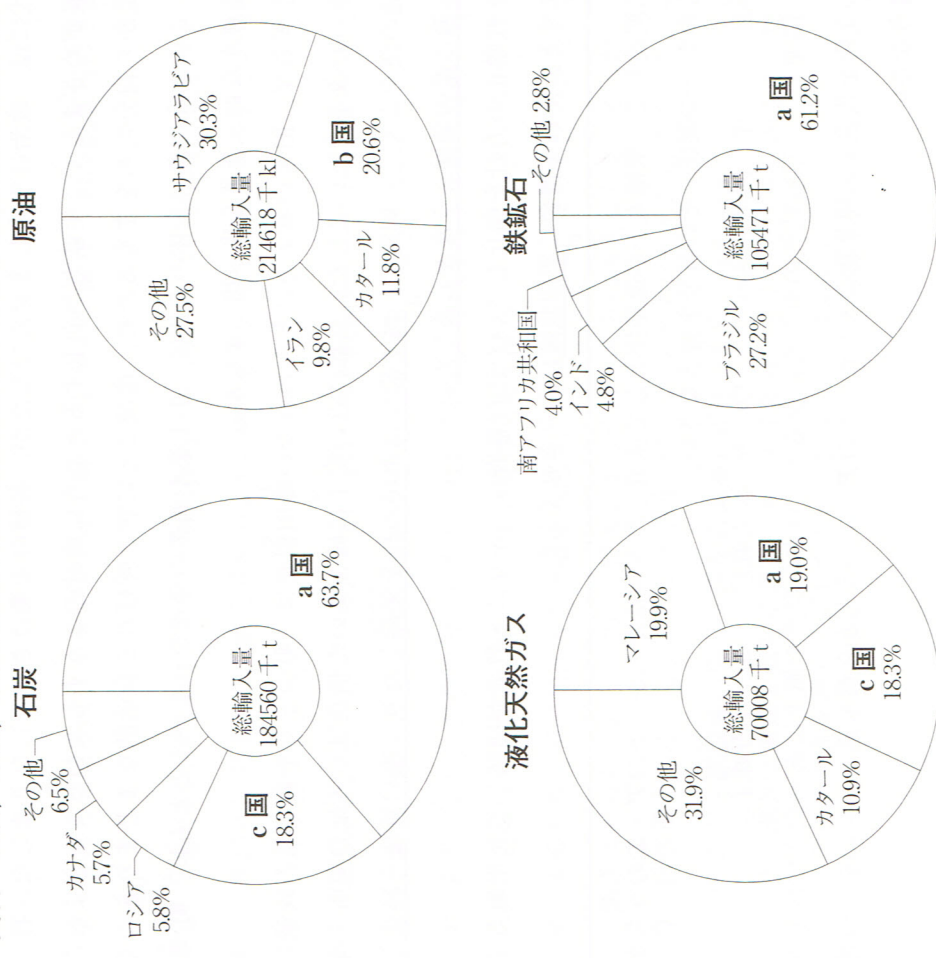
(4) 下の資料は、石炭、原油、液化天然ガス及び鉄鉱石の日本のおもな輸入先と総輸入量を示したものである。これに関して、①、②の問いに答えなさい。

① 資料中のa国, b国, c国の国名の組み合わせはどれか。下のア～エのうち最も適当なものを一つ選び、その符号を書きなさい。

- ア a国：インドネシア b国：オーストラリア c国：アラブ首長国連邦
- イ a国：オーストラリア b国：インドネシア c国：アラブ首長国連邦
- ウ a国：インドネシア b国：アラブ首長国連邦 c国：オーストラリア
- エ a国：オーストラリア b国：アラブ首長国連邦 c国：インドネシア

② アラブ首長国連邦, オーストラリア, インドネシアの位置を図中のA～Iのうちからそれぞれ一つずつ選び、その符号を書きなさい。

資料 石炭、原油、液化天然ガス及び鉄鉱石の日本のおもな輸入先と総輸入量



(「日本国勢図会 2011/12年版」より作成)

4 社会科の授業で、ひろしさんのグループは、さまざまな時代のごとについて調べて調べることにになり、話し合っって要点を次の文章A～Eに整理しました。これを読み、あとの(1)～(5)の問いに答えなさい。

A 6世紀の末、聖徳太子は推古天皇の摂政となつて政治にあたることになりました。太子は国内政治の充実をはかり、いろいろな政策によつて新しい政治を行いました。一方、対外的には遣隋使をつかわし、留学生や学問僧を同行させて大陸のすすんだ文化を取り入れました。

B 平安時代になると、仏教の世界にも新しい動きがあらわれられました。中国への留学から帰った最澄は比叡山に延暦寺を建てて天台宗を開き、同じく空海は高野山に金剛峯寺を建てて真言宗を開きました。

C 室町時代には、政治は安定しませんが、各種の産業はさかんにになりました。特に農業の発展がめざましく、生産力が向上するとともに農村のようすも変わつていきました。農民は戦乱から自分たちをまもるため、地域ごとに惣と呼ばれる自治的なまとまりをつくりました。このような農村全体の変化は、手工業や商業の発達をうながすとともに、町衆とよばれる豊かな商工業者を生み出しました。

D 軍事にかぎらず、旧来の考え方にとらわれない織田信長は、町づくりや商工業の政策にもおもいきつた改革を行いました。京都に近い安土に城を築いた信長は、各地の関所を廃止して交通の便をよくし、同時に、城下町では市場の税を免除したり、座の特権を廃止したりして、商工業の発展をうながしました。


E キリスト教禁止の方針を強化していた江戸幕府は、キリスト教徒が団結して九州地方で一揆をおこすと、それを機会に鎖国政策にふみきりました。

(1) 下線部 a に関連して、聖徳太子が遣隋使として派遣した人物はだれか。下のア～エのうちから最も適当なものを一つ選び、その符号を書きなさい。


ア 山上憶良 イ 阿倍仲麻呂 ウ 柿本人麻呂 エ 小野妹子

(2) 下線部 b に関連して、平安時代の中ごろになると、日本の自然や風土にあった文化が生み出された。この文化を代表する建築物はどれか。下のア～エのうちから最も適当なものを一つ選び、その符号を書きなさい。


ア



イ



ウ



エ



(3) 下線部 c に関連して、室町時代の農業について述べた文はどれか。下のア～エのうちから最も適当なものを一つ選び、その符号を書きなさい。

ア かんがい用の水車が各地に普及し、麦を裏作とする二毛作も広まり、綿の栽培が始まった。

イ 湿地の水田は木製のくわやすきで耕し、収穫は石包丁によって穂先の部分だけを刈り取った。

ウ 農具の発明や改良がすすみ、深く耕すのに便利な備中ぐわや脱穀用の干齒こきが用いられた。

エ 干鰯や油かすを肥料として、商品作物である綿・たばこが各地で栽培されるようになった。

(4) 下線部 d に関連して、織田信長が安土に城を築き、商工業の発展をはかる目的で行った政策を何とよいか書きなさい。

(5) 下線部 e に関連して、下のア～エの文は日本が鎖国を行っていた間のごとについて述べたものである。年代の古いものから順に並べ、その符号を書きなさい。

ア 新井白石は、儒教の教えをもとに政治を行い、財政をたてなおすために貨幣の質をよくしたり、長崎貿易を制限して、金・銀の海外流失を減らしたりした。


イ 大阪町奉行所の元役人の大塩平八郎は、天保のきんによる貧民の救済を奉行所に訴えたが聞き入れられなかったため、民衆によびかけ、大阪の商人などをおそった。

ウ 松前藩との不平等な取引に不満をいだいたシャクシャインはアイヌの人々とともに立ち上がったが、津軽藩の協力を得た松前藩に鎮圧された。

エ 徳川綱吉は極端な動物愛護令である生類憐みの令を出し、あらゆる生き物を殺すことを禁止し、そむいた者を厳しく罰したため、民衆の反発を招いた。

5 次の略年表を見て、あとの(1)～(5)の問いに答えなさい。

年代	できごと
1860	桜田門外の変がおこる。
1867	王政復古の大号令が出される。
1873	徴兵令が出される。
1890	第1回衆議院議員選挙が行われる。
1914	第一次世界大戦がおこる。
1920	<u>国際連盟が設立される。</u>
1933	<u>日本が国際連盟を脱退する。</u>
1945	ポツダム宣言を受諾する。
1978	日中平和友好条約が結ばれる。



(1) 矢印Aの期間に関連して、このころに世界でおこったできごとを述べた文として最も適当なものを、下のア～エのうちから一つ選び、その符号を書きなさい。

- ア フランスでは、国民たちが結束して、国王の専制政治を倒すフランス革命がおこった。
- イ ヨーロッパでは、カトリック教会に対して、ルターたちが宗教改革をおこした。
- ウ ロシアでは、レーニンを指導者として革命がおこり、社会主義国家が成立した。
- エ アメリカでは、南部と北部が奴隷制度などをめぐって対立し、南北戦争がおこった。

(2) 矢印Bの期間に関連して、このころの日本の社会の様子について述べた文として最も適当なものを、下のア～エのうちから一つ選び、その符号を書きなさい。

- ア 軍備増強に必要な鉄鋼を自給するために、八幡製鉄所が操業を開始した。
- イ ラジオ放送が始まり、国民の娯楽として全国に普及していった。
- ウ 軍隊の力を背景に、琉球藩を廃止して沖縄県を設置した。
- エ 当時の首相であった犬養毅が暗殺される五・一五事件がおこった。

(3) 下線部Cに関連して、このころの日本国内における女性にかかわる動きについて述べた文として最も適当なものを、下のア～エのうちから一つ選び、その符号を書きなさい。

- ア 普通選挙を要求する運動が高まり、それとともに女性の参政権を求める運動もおこった。
- イ 学制が公布され、男子も女子も小学校教育を受けることになった。
- ウ 20歳以上のすべての男女に選挙権が与えられ、女性の国会議員も登場した。
- エ 民権運動が活発になり、この運動に参加する女性もあらわれた。

(4) 下線部Dに関連して、右の写真は、日本が国際連盟を脱退するときの様子である。下の文中の□にあてはまる適当なことを、「日本軍」、「満州国」、「満州」の三つの語を用いて、30字以内(読点を含む。)で書きなさい。

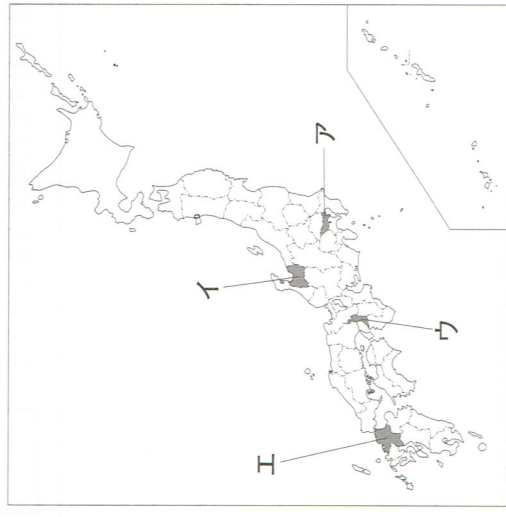


アメリカ大統領の提案に基づき誕生した国際連盟において、日本は常任理事国となったが、国際連盟がリットン調査団を派遣して、満州事変の調査を行い、□を不服として脱退した。

(5) 右の資料は、米騒動の様子である。このできごととは略年表中のX、Y、Zのどの時期にあてはまるか。その符号を書きなさい。



また、このできごとが始まった県を、図中のア～エのうちから一つ選び、その符号を書きなさい。



6 次のI、IIの文章を読み、あとの(1)、(2)の問いに答えなさい。

I 日本国憲法では、「国会は、国権の最高機関であって、国の唯一の立法機関である。」(第41条)と定められており、国会は、衆議院と参議院の二院で構成されています。国会の仕事には、法律の議決、予算の議決、決算の承認、^a内閣総理大臣の指名などがありますが、それらの仕事を行うにあたっては、衆議院と参議院の権限がすべてにわたって平等というわけではなく、衆議院の優越が認められています。

II 日本国憲法では、「すべて司法権は、最高裁判所及び法律の定めるところにより設置する下級裁判所に属する。」(第76条)と定められています。司法権が正しく行使されるために、裁判所は、国会や内閣、その他どんな権力からも^b干渉を受けられないことのないしくみをとっています。また、日本の裁判においては、三審制が設けられていますが、これは裁判を慎重に行い、裁判の公正をはかるためです。

(1) 下線部 a に関連して、衆議院の解散による総選挙の日から、30日以内に召集され、内閣総理大臣の指名が行われる国会を何というか。下のア～エのうちから最も適当なものの一つを選び、その符号を書きなさい。

- ア 通常国会(常会)
- イ 臨時国会(臨時会)
- ウ 特別国会(特別会)
- エ 両院協議会

(2) 下線部 b に関連して、下の文章中の [] にあてはまる適当なことをばを、「判決」「国民」という二つの語を用いて、15字以内(読点も含む。)で書きなさい。

日本では、近年、司法制度改革が行われており、法科大学院の設置や裁判員制度の導入がその代表としてあげられる。2009年から導入された裁判員制度は、殺人など重大な刑事事件の第一審に国民が裁判員として参加する制度である。国民が司法に関わることで、裁判を身近に感じて司法に対する信頼が高まることや、[] ことなどが期待されている。

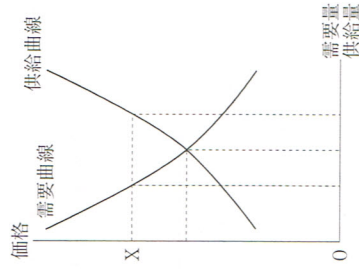
7 次の文章を読み、あとの(1)～(3)の問いに答えなさい。

一国の経済には、経済の主体(単位)として家計・企業・政府の三つがあり、これらが互いに関連しあっています。家計が購入する商品やサービスの多くは企業によって生産・販売されており、一般に、市場で自由競争が行われている場合は、その商品やサービスの価格は需要と供給量の^a変化によって上下します。しかし、少数の企業が市場を独占するようになる^bと、需要と供給量の変化だけで価格が決まらない場合があります。企業には、私企業と公企業があり、私企業には会社や個人の企業などがあります。会社形態のうち代表的なものが株式会社です。

日本のような資本主義経済では、生産活動が活発になり沈滞したりすることがあり、^c景気が変動します。この景気の変動を調整したり、国民生活を向上させたりするために政府は、公共的なものやサービスを提供することだけではなく、財政支出や税金を増減したり日本銀行を通じて通貨量の調節をすることなどによって経済活動の調整をとめています。また、経済活動にともなう弊害を防ぐため、法律にもとづいてさまざまな規制や保障を行っています。

(1) 下線部 a に関連して、図1は、自由な競争が行われている市場でのある商品の価格と需要量・供給量の関係を示したものである。図1で、価格がX円のとときの説明として、正しいものはどれか。下のア～エのうちから最も適当なもの一つを選び、その符号を書きなさい。

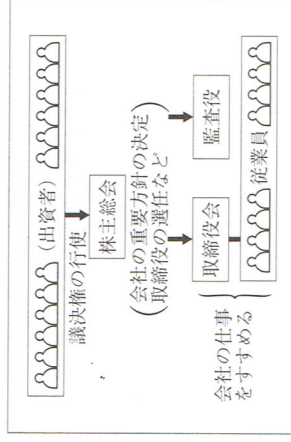
図1



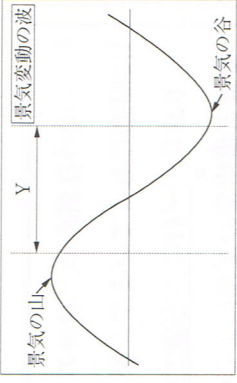
- ア 供給量が需要量を上回り、価格は下がり始める。
- イ 供給量が需要量を上回り、価格は上がり始める。
- ウ 需要量が供給量を上回り、価格は下がり始める。
- エ 需要量が供給量を上回り、価格は上がり始める。

(2) 下線部 b に関連して、図2は、株式会社のしくみを簡略に示したものである。この株式会社は、資金により多く集めるうえで、他の企業形態に比べて有利である。その理由を、「資金」「株式」「株式」の二つの語を用いて、35字以内(句読点も含む。)で書きなさい。

図2



(3) 下線部 c に関連して、資本主義経済のもとでは、好景気と不景気がくり返されてきた。図 3 は、景気の変動の大きな動きを示したものである。図 3 中の Y の時期に、一般に政府がとる財政政策について述べた文で、正しいものはどれか。下のア～エのうちから最も適当なものを一つ選び、その符号を書きなさい。



- ア 財政支出を減らしたり減税をしたりする。
- イ 財政支出を増やしたり減税をしたりする。
- ウ 財政支出を増やしたり増税をしたりする。
- エ 財政支出を減らしたり増税をしたりする。

8 次の I、II の文章を読み、あとの(1)～(3)の問いに答えなさい。

I 日本の経済は、1950年代後半から1970年代はじめにかけて飛躍的に発展しました。生産は発展を続け、貿易も拡大しました。こうした経済発展も、1973年の A で一時停滞しましたが、その後、技術革新によって日本の経済は着実に成長をとげました。しかし、1990年代はじめに、いわゆる B 経済が崩壊し、今日に至っています。

II 現代社会では、さまざまな社会状況とともに、家族のあり方も年々変化しています。また、^a女性の社会進出もすすみましたが、^b少子高齢化の進行など抱えている問題は少なくありません。

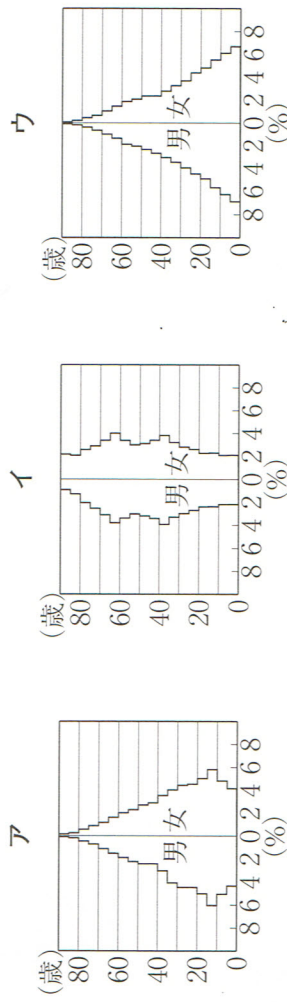
(1) 文章中 A、B にあてはまる語の組み合わせはどれか。下のア～エのうちから最も適当なものを一つ選び、その符号を書きなさい。

- ア A：石油危機 B：バブル
- イ A：石油危機 B：ブロック
- ウ A：朝鮮戦争 B：バブル
- エ A：朝鮮戦争 B：ブロック

(2) 下線部 a に関連して、下の文中の [] に共通してあてはまる語を書きなさい。

男女の区別なく、個人として能力をいかすことができる [] 社会の実現をはかるために、日本でも1999年に [] 社会基本法が成立し、施行された。

(3) 下線部 b に関連して、下のア～エは、日本の1935年、1960年、2010年のいずれかの年の年齢別人口構成(人口ピラミッド)である。年代の古いものから順に並べ、その符号を書きなさい。



(「日本国勢図会 2001/12年版」より作成)