

学力検査 社会 第4回 解答用紙

答えは、すべてこの解答用紙に書き、解答用紙だけ提出しなさい。


1	(1)		(2)			
	(3)	年代の古い順 符号	1	2	3	(4)
2	(1)		(2)			
	(3)	A		B	C	D
3	(4)	①		②		
	(1)		(2)			
4	(3)	X			Y	
	(4)	ド イツ インドネシア	資料1		資料2	資料2
5	(1)		(2)			
	(3)	X		Y	Z	(4)
6	(1)					
	(2)					
7	(3)					
	(4)					
8	(1)					
	(2)					

6	(1)		(2)		(3)	
7	(1)					
	(2)			(3)		
8	(1)					
	(2)					

受検番号	氏名	総得点
------	----	-----

1 次の文章を読み、あとの(1)~(4)の問いに答えなさい。

右の写真は、千葉にある銚子港の様子を撮影したものです。銚子港は沖合漁業や沿岸漁業がさかんで、全国一の水揚げ高をあげた年もあり、中でもいわしは全国上位の水揚げ高を誇っています。水揚げされた魚は市場でせりにかけられ、業者の手を経て消費者に届けられます。九十九里浜でも江戸時代からいわしの地引き網漁が行われ、とれたいわしは「ほしか」という肥料の原料になりました。「ほしか」は当時、水運を利用して消費地に運ばれていました。日本は世界でも有数の漁業国ですが、さまざまな要因により漁獲量は減少傾向にあります。

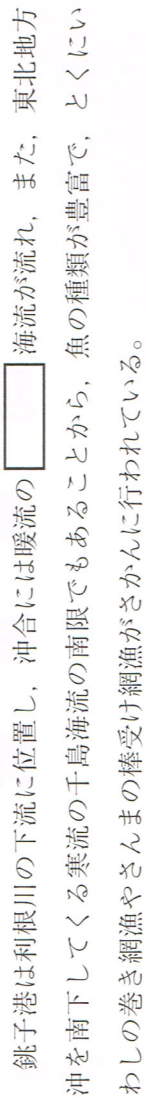


(1) 下線部 a に関連して、下の文章は銚子港の特色を述べたものである。文章中の [] にはあてはまる適当な語を漢字 2 字で書きなさい。

銚子港は利根川の下流に位置し、沖合には暖流の [] 海流が流れ、また、東北地方沖を南下してくる寒流の千島海流の南限でもあることから、魚の種類が豊富で、とくにいわしの巻き網漁やさんまの棒受け網漁がさかんに行われている。

(2) 下線部 b に関連して、下の図は、魚が消費者に届くまでの道のりを示したものである。図中の [X] [Y] [Z] にあてはまる流通業者を表す語の組み合わせはどれか。下のア~エのうちから最も適当なものを選び、その符号を書きなさい。

(3) 下線部 c に関連して、下の文章は銚子港の特色を述べたものである。文章中の [] にはあてはまる適当な語を漢字 2 字で書きなさい。



ア X：卸売業者 Y：仲卸業者 Z：小売業者
 イ X：卸売業者 Y：小売業者 Z：仲卸業者
 ウ X：仲卸業者 Y：卸売業者 Z：小売業者
 エ X：仲卸業者 Y：小売業者 Z：卸売業者

(3) 下線部 c に関連して、下のア~ウの文は、船による輸送について述べたものである。それぞれのできごとを年代の古いものから順に並べ、その符号を書きなさい。

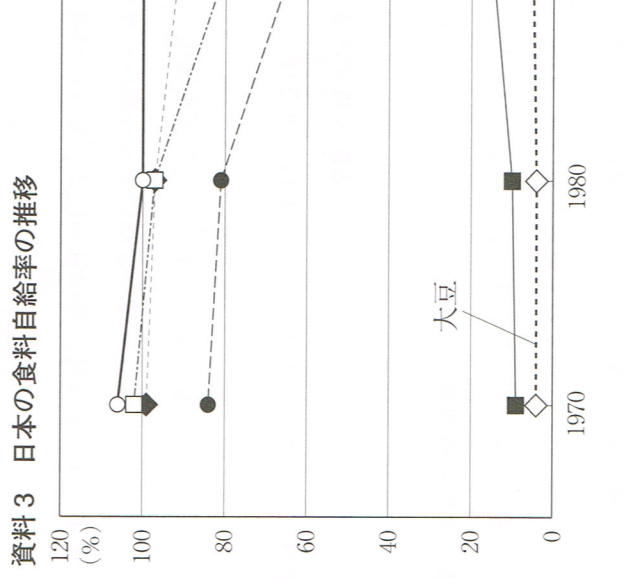
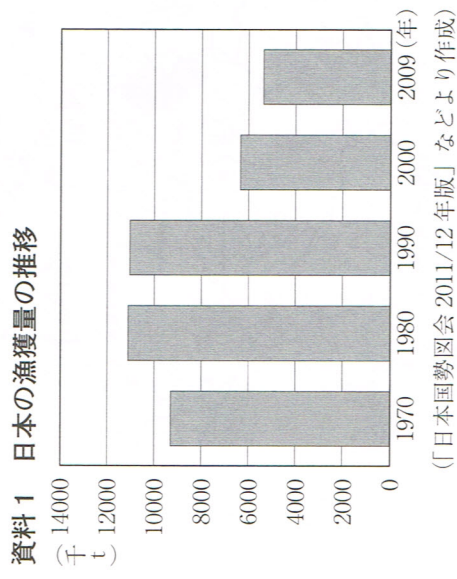
ア 東北地方の産物運ぶ東廻り航路・西廻り航路などの定期航路が開かれた。

イ 中国との貿易における瀬戸内海の航海の無事を祈って厳島神社が平清盛により整備された。

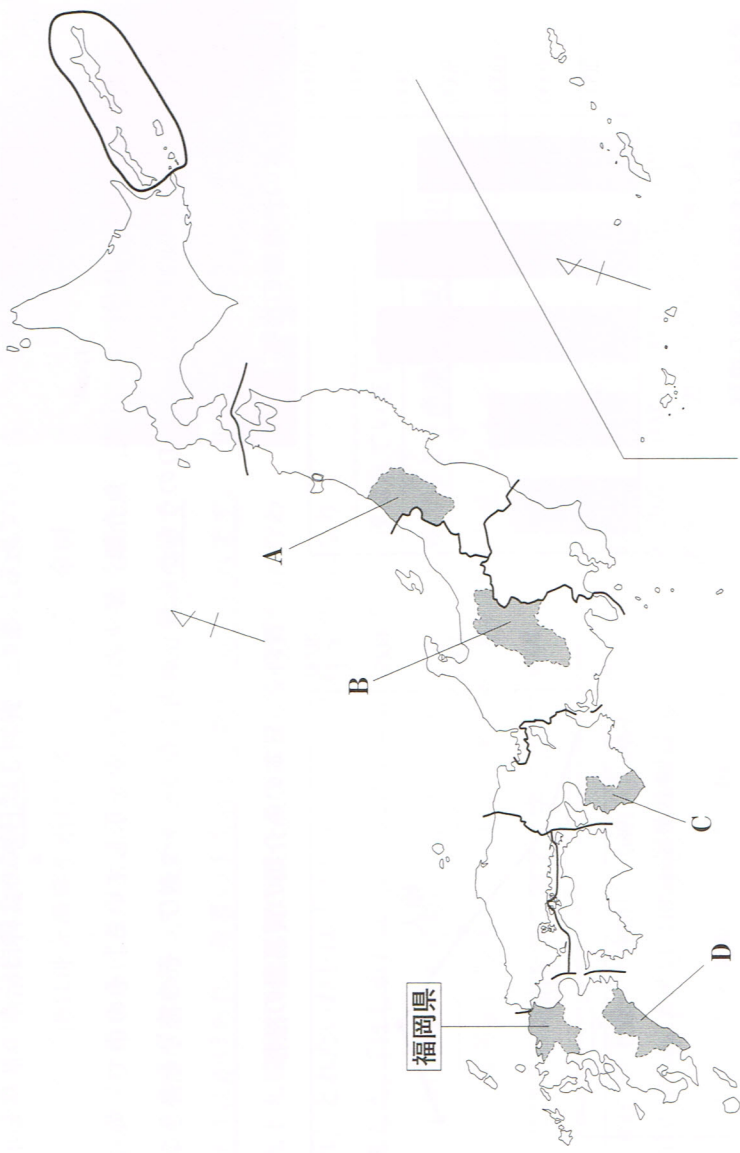
ウ 地方の特産物を納める調などを都に運ぶために水運が利用された。

(4) 下線部 d に関連して、下の資料 1 は日本の漁獲量の推移を示したものであり、資料 2 は日本の魚介類の貿易量の推移を示したものである。また、資料 3 は日本の食料自給率の推移を示したものである。

資料 3 中の A~D は、米、小麦、魚介類、果実のいずれかを示している。その中で、魚介類を示しているものはどれか。A~D のうちから最も適当なものを選び、その符号を書きなさい。



2 次の図を見て、あとの(1)~(4)の問いに答えなさい。



(1) 図のように、日本を大きく八つの地方区分に分けたとき、都道府県の数も最も多くある地方はどれか。下のア~エのうちから最も適当なものを選び、その符号を書きなさい。

ア 東北地方 イ 関東地方 ウ 中部地方 エ 九州地方

(2) 図中の○で示した地域は日本固有の領土であるが、現在はロシア連邦に占領され、日本は返還を求めている。この地域を何というか。その名称を漢字で書きなさい。

(3) 下の表は、図中のA~Dの四つの県及び千葉県のそれぞれの県の耕地面積と畜産、果実、野菜、米のそれぞれの産出額を示している。A~Dの県にあてはまるものはどれか。表中のA~Eのうちから適当なものをそれぞれ一つずつ選び、その符号を書きなさい。

図に示した県	耕地面積 (ha) (2009年)	畜産の産出額 (億円) (2008年)	果実の産出額 (億円) (2008年)	野菜の産出額 (億円) (2008年)	米の産出額 (億円) (2008年)
ア	123200	333	462	335	854
イ	35600	64	651	168	83
ウ	111300	319	490	687	490
エ	69300	1869	131	660	236
千葉 県	129400	1053	168	1652	774

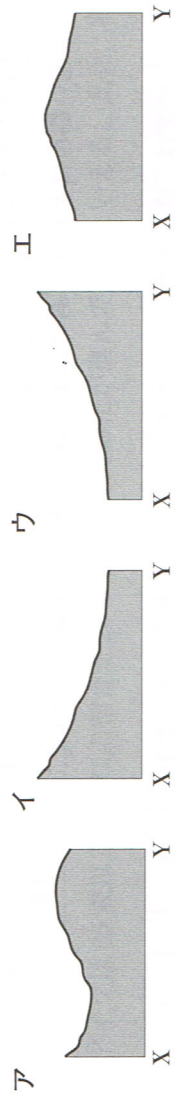
(「データでみる県勢2011年版」より作成)

(4) 下の地形図は、前のページの図中の福岡県の一部を示したものである。これを見て、下の①、②の問いに答えなさい。



(国土地理院平成17年発行1:25000「福岡西部」「志賀島」原図より作成)

① 地形図中のX-Y間の土地の起伏を表しているものはどれか。下のア~エのうちから最も適当なものを選び、その符号を書きなさい。



② この地形図を正しく読み取ったことがらどれか。下のア~エのうちから最も適当なものを選び、その符号を書きなさい。

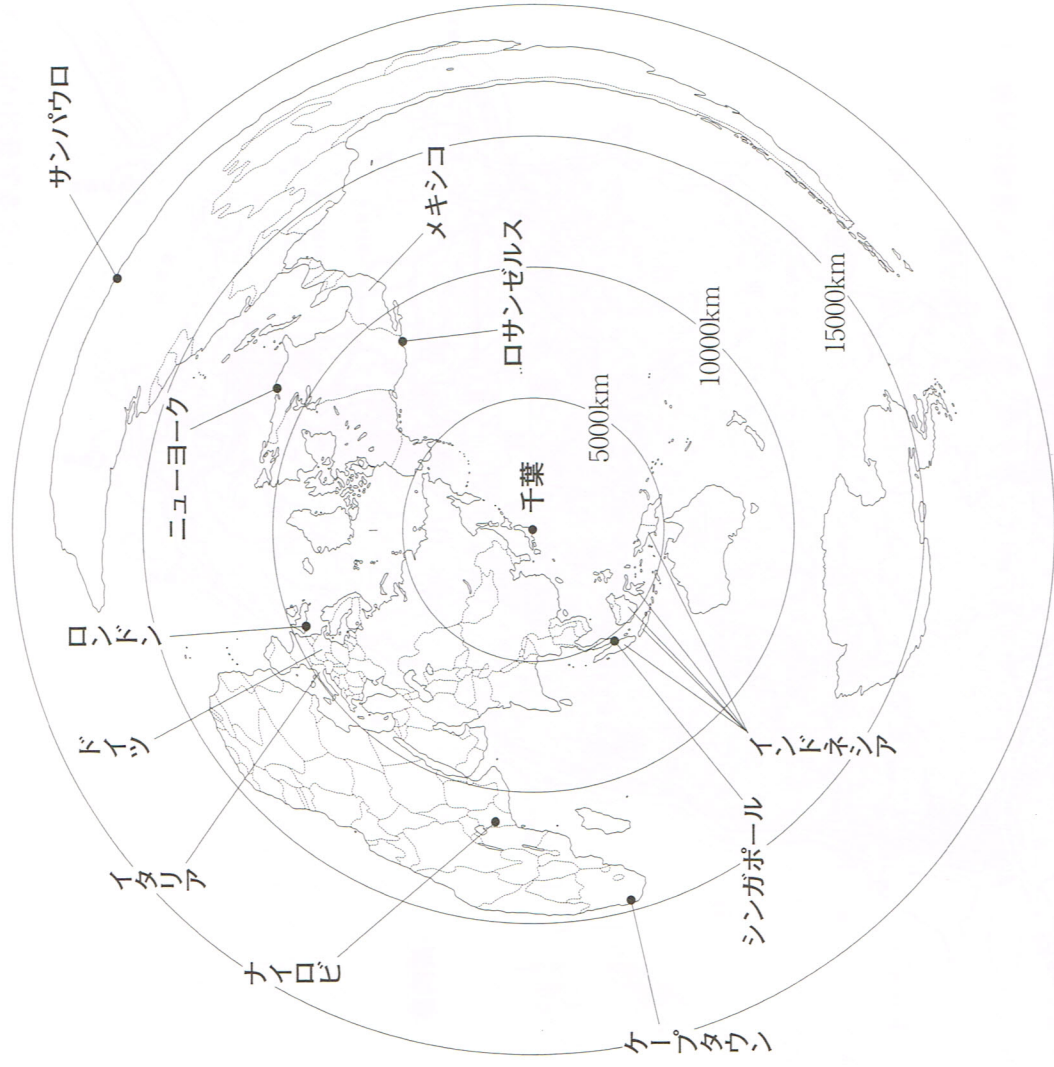
ア 「志賀島」を一周する道路は約45cmであるので、実際の距離は約22kmである。

イ 島を一周する道路は整備されているが、この島には公園が1つもない。

ウ 島の南部には大きな集落があり、そこには小・中学校と郵便局がある。

エ 島の南西部には「蒙古塚」があり、その南には灯台が設置された砂浜がある。

3 次の図を見て、あとの(1)~(4)の問いに答えなさい。




- (1) 図中の千葉から見たシンガポールの方位はどれか。下のア～エのうちから最も適当なものを選び、その符号を書きなさい。
 ア 北西 イ 北東 ウ 南西 エ 南東
- (2) 図中のナイロビ、ケープタウン、ロサンゼルス及びニューヨークのうち、千葉からの距離が最も遠い都市はどれか。あてはまる適当な都市名を書きなさい。
- (3) 下の文は、図の特徴についてまとめたものである。下の文中の X Y にあてはまる最も適当な語を、それぞれ書きなさい。

千葉から航空機を使って最短のコースで X Y 大陸のサンパウロに行った場合に、上空を通過しない海洋は Y である。

(4) 下の資料1は、前のページの図中のイタリア、インドネシア、ドイツ、メキシコ及び日本の総人口、年齢別人口割合を示したものであり、資料2は、この5つの国の2020年から2050年にかけての将来推計人口の推移を示したものである。資料1中のア～オ、資料2中のカ～コのうち、ドイツとインドネシアにあてはまるものはそれぞれどれか。資料1及び資料2からドイツとインドネシアについて読み取ったことをまとめた資料3を参考にして、ア～オ、カ～コのうちから一つずつ選び、その符号を書きなさい。

資料1 イタリア、インドネシア、ドイツ、メキシコ及び日本の総人口、年齢別人口割合



注：四捨五入の関係で内訳の合計が100%にならない場合がある。
 (「世界国勢図会 2011/12年版」より作成)

資料2 イタリア、インドネシア、ドイツ、メキシコ及び日本の2020年から2050年にかけての将来推計人口の推移

	将来推計人口(千人)		
	2020年	2035年	2050年
カ	80988	78445	74781
キ	125928	138923	143925
ク	122735	110679	95152
ケ	262569	285837	293456
コ	61290	60537	59158

(「世界国勢図会 2011/12年版」より作成)

資料3 資料1、資料2からドイツとインドネシアについて読み取ったこと

ドイツは65歳以上の人口の割合が20%を超え、高齢化が進んでいるといえる。また、将来推計人口において、ドイツは人口が減少を続けると予測され、5か国のうち、2035年から2050年に人口が減少する割合が2番目に高く、少子化が進む。

インドネシアは0～14歳の人口の割合が25%を超え、65歳以上の人口の割合が5%台である。また、将来推計人口において、インドネシアは人口が増加を続けると予測され、2020年と2050年を比較すると、5か国のうちで人口が最も増加する。

4 次の略年表を見て、あとの(1)~(5)の問いに答えなさい。

年代	政治に関する主なできごと	文化に関する主なできごと
800	平安京に都を移す。	
900		「古今和歌集」が編纂される。
1000		「源氏物語」があらわされる。
1100	白河上皇が院政を行う。	
1200	鎌倉に幕府が開かれる。	「平家物語」が語り広められる。……A
1300	京都に幕府が開かれる。	新しい仏教が広まる。……B
1400	下剋上の世の中になる。	世阿弥が能を大成する。 雪舟が水墨画を大成する。
1500		千利休が茶の湯を大成する。
1600	豊臣秀吉が全国を統一する。 江戸に幕府が開かれる。 徳川家光が参勤交代を制度化する。…D	
1700	徳川吉宗が政治改革を行う。	国学がおこる。
1800	松平定信が政治改革を行う。 水野忠邦が政治改革を行う。	蘭学がおこる。……E

(1) Aに関連して、下の文は、平氏がほろぼされた戦いについて述べたものである。文中の□の人物について述べた文はどれか。下のア~エのうちから最も適当なものを一つ選び、その符号を書きなさい。

東国を支配下に置いた□は、弟の義経らを遣わして平氏を都から追い出し、ついに壇ノ浦で平氏をほろぼした。

- ア 征夷大將軍に任命され、蝦夷を平定した。
- イ 国ごとに守護、荘園や公領ごとに地頭を置いた。
- ウ 遣唐使の停止を進言し認められたが、のちに大宰府に左遷された。
- エ 武士としてはじめて太政大臣となり、宋との貿易を推し進めた。

(2) Bに関連して、下のア~エの文はさまざまな時代の仏教のようすについて述べたものである。それぞれのできごとを年代の古いものから順に並べ、その符号を書きなさい。

- ア 5度の航海の失敗のちに来日した鑑真が、仏教の正しい戒律を伝え、唐招提寺を開いて教えを広めた。
- イ 阿弥陀仏にすがって極楽浄土に往生しようとする思想が広まり、平等院鳳凰堂などの阿弥陀堂がつくられた。
- ウ 榮西や道元が、座禅によって自らの力でさとりを開こうとする禅宗を伝え、武士の間に広まった。
- エ 最澄や空海が山奥での学問や厳しい修行を行う仏教を伝え、比叡山延暦寺や高野山金剛峯寺を建てた。

(3) Cに関連して、下の文章中の□にあてはまることばを、「倭寇」という語を用いて、15字以内(読点を含む。)で書きなさい。

足利義満は明と国交を結び、貿易を行った。この貿易では、□のために勘合という合い札が用いられ、日本からは刀、銅などが輸出され、明からは銅銭、絹織物などが輸入された。

(4) Dに関連して、当時の幕府がとった対外政策について述べている文はどれか。下のア~エのうちから最も適当なものを一つ選び、その符号を書きなさい。

- ア 朝鮮半島に二度にわたって大軍を送った。
- イ 百済を助けようと中国と新羅の連合軍と戦ったが、敗れた。
- ウ 遣隋使として小野妹子を派遣し、隋の進んだ制度や文化を取り入れようとした。
- エ 鎖国を行い、中国とオランダだけ貿易を許可した。

(5) Eに関連して、下の文はこのころの学問の発達について述べたものである。この人物の名前を、漢字4字で書きなさい。

千葉県出身のこの人物は、西洋の測量術を学び、はじめて全国の沿岸を実際に測量し、幕府の支援も得て、日本全国をつくった。

5 次の文章を読み、あとの(1)~(5)の問いに答えなさい。

日本は、近現代において多くの戦争を経験してきた。明治初期、土族の反乱^aである西南戦争がおこった。明治後期になると、朝鮮をめぐる日本と清の対立が進み、日清戦争が始まった。この戦争以降、ヨーロッパ諸国は次々と清の領土を侵略し、これに反対する中国民衆の排外運動が激しくなった。こうした中で、ロシアが満州を占領し朝鮮にも勢力をのびさせたため、日露戦争がおこった。日清・日露戦争の勝利は日本の国際的地位を高めることになった。

第一次世界大戦がおきると、イギリスと同盟を結んでいた日本も連合国側に参戦した。これは日本が、中国や太平洋地域での権益の強化をはかるためであった。

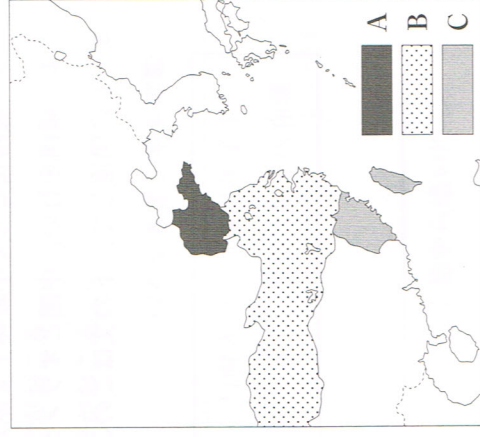
その後、日本は第二次世界大戦^d、日中戦争、太平洋戦争に敗れたが、朝鮮戦争をきっかけに飛躍的な経済復興を遂げることになった。

(1) 下線部 a に関連して、下の文章中の にあてはまる適当な語を、漢字 3 字で書きなさい。

土族は、四民平等や廃刀令など多くの特権を奪われたことから不満を高めて、西日本を中心に各地で反乱をおこした。なかでも、最も規模が大きかったのが西南戦争であった。西郷隆盛を中心とした土族が拳兵し、熊本城などを攻めたが、 によってつくれた農民中心の政府軍の近代적裝備の前に敗れ去った。

(2) 下線部 b に関連して、右の図は、このころの中国における各国の勢力範囲を示したものである。図中の A~C を勢力範囲としていた国の組み合わせはどれか。下のア~エのうちから最も適当なものの一つを選び、その符号を書きなさい。

- ア A フランス B 日本 C イギリス
- イ A フランス B イギリス C 日本
- ウ A ドイツ B 日本 C イギリス
- エ A ドイツ B イギリス C 日本



日本は、近現代において多くの戦争を経験してきた。明治初期、土族の反乱^aである西南戦争がおこった。明治後期になると、朝鮮をめぐる日本と清の対立が進み、日清戦争が始まった。この戦争以降、ヨーロッパ諸国は次々と清の領土を侵略し、これに反対する中国民衆の排外運動が激しくなった。こうした中で、ロシアが満州を占領し朝鮮にも勢力をのびさせたため、日露戦争がおこった。日清・日露戦争の勝利は日本の国際的地位を高めることになった。

第一次世界大戦がおきると、イギリスと同盟を結んでいた日本も連合国側に参戦した。これは日本が、中国や太平洋地域での権益の強化をはかるためであった。

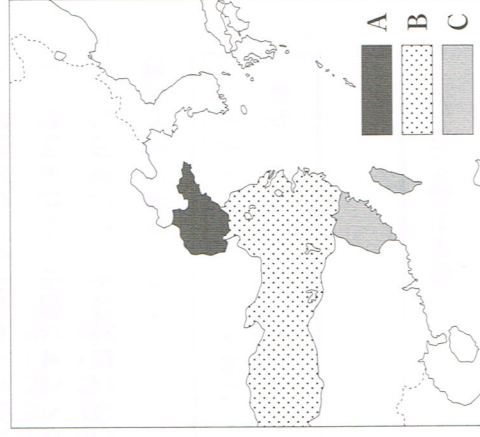
その後、日本は第二次世界大戦^d、日中戦争、太平洋戦争に敗れたが、朝鮮戦争をきっかけに飛躍的な経済復興を遂げることになった。

(1) 下線部 a に関連して、下の文章中の にあてはまる適当な語を、漢字 3 字で書きなさい。

土族は、四民平等や廃刀令など多くの特権を奪われたことから不満を高めて、西日本を中心に各地で反乱をおこした。なかでも、最も規模が大きかったのが西南戦争であった。西郷隆盛を中心とした土族が拳兵し、熊本城などを攻めたが、 によってつくれた農民中心の政府軍の近代적裝備の前に敗れ去った。

(2) 下線部 b に関連して、右の図は、このころの中国における各国の勢力範囲を示したものである。図中の A~C を勢力範囲としていた国の組み合わせはどれか。下のア~エのうちから最も適当なものの一つを選び、その符号を書きなさい。

- ア A フランス B 日本 C イギリス
- イ A フランス B イギリス C 日本
- ウ A ドイツ B 日本 C イギリス
- エ A ドイツ B イギリス C 日本



(3) 下線部 c に関連して、下の X~Z のカードは、不平等条約の改正についてまとめたものである。それぞれのカードは、下の略年表中のどの時期にあてはまるか。ア~ウのうちから最も適当なものをそれぞれ一つずつ選び、その符号を書きなさい。

X	Y	Z
外務大臣小村寿太郎は、アメリカとの間で日米新通商航海条約を結び、関税自主権の回復に成功した。	外務大臣陸奥宗光は、イギリスとの間で日英通商航海条約を結び、領事裁判権の撤廃に成功した。	岩倉具視を全権大使とする使節団が、欧米に派遣され、国力の充実の必要性を痛感し、帰国した。

年代	できごと
1858	日米修好通商条約を始め、5 か国と不平等条約を結ぶ。 <input style="width: 30px;" type="text"/>
1883	東京日比谷に鹿鳴館が建てられる。
1886	紀伊半島沖で、ノルマントン号事件がおこる。 <input style="width: 30px;" type="text"/> <input style="width: 30px;" type="text"/>

(4) 下線部 d に関連して、このころの日本国内の様子について述べた文はどれか。下のア~エのうちから最も適当なものの一つを選び、その符号を書きなさい。

- ア ラジオ放送が始まり、スポーツや歌謡曲が国民の娯楽になった。
- イ 地価や株価が急激に高騰し、バブル経済とよばれた。
- ウ 東海道新幹線が開通し、東京オリンピックが開催された。
- エ 米や砂糖などの生活必需品が配給制になった。

(5) 下線部 e に関連して、下の文章中の にあてはまる適当な語を、漢字 3 字で書きなさい。

在日アメリカ軍が朝鮮戦争に出動すると、GHQの指令で警察予備隊がつくられ、それが強化されて保安隊となった。保安隊に代わる組織として、陸上、海上、航空の3つの部隊からなる が創設された。

6 社会科の授業で現代の民主政治と社会について学習したとき、ある班では裁判所に関して話し合
いをしました。そのときの会話を読み、あとの(1)~(3)の問いに答えなさい。

あゆみ「私は、裁判所のしくみについて調べました。裁判所は最高裁判所^aと4種類の下級裁
判所に分かれていて、事件の内容によっていずれかの下級裁判所で最初の裁判が行わ
れます。また、判決に不服の場合、上級の裁判所に申し出て、ふつうは合計3回まで
裁判を求めることができます。」
ひろし「ぼくは、裁判の種類について調べました。民事裁判は、お金の貸し借りについての
もめごとや家族の間の争いなどがおこったときに、訴えた方が[]となり、訴え
られた方が被告となつて行われるものです。これに対して刑事裁判は、他人を傷つけ
たり、他人のものを盗んだりした犯罪を裁くために、検察官が[]となり、起訴
された被疑者を被告人として行われるものです。」

みさき「私は裁判^bに関する国民の権利について調べました。国民の権利は、最終的に裁判に
よつて保障されています。そこで、裁判が正しく行われることと、裁判においても人
権が守られることが必要です。たとえ、被疑者や被告人であっても、その人権が侵さ
れないように、さまざまな権利が日本国憲法によつて保障されていることがわかりま
した。」

先生「みなさんよく調べましたね。」

(1) 下線部 a に関連して、日本では、司法権の働きを国民が監督するという意味から、最高裁判所
の裁判官が適任かどうかを国民の投票によつて決める国民審査という制度がある。この国民審査
の行われ方について述べた文で、正しいものはどれか。下のア~エのうち最も適当なものを
一つ選び、その符号を書きなさい。

ア 任命後はじめて行われる衆議院議員の総選挙のときに国民の審査を受け、その後は10年を
経過したのちの衆議院議員の総選挙のときに国民の審査を受ける。

イ 任命後はじめて行われる衆議院議員の総選挙のときに国民の審査を受け、その後は3年ごと
に行われる参議院議員の通常選挙のときに審査を受ける。

ウ 任命後はじめて行われる衆議院議員の総選挙および参議院議員の通常選挙のときと、その後
は6年を経過したのちの参議院議員の通常選挙のときに国民の審査を受ける。

エ 任命後はじめて行われる衆議院議員の総選挙および参議院議員の通常選挙のときと、その後
は参議院議員の総選挙のときに国民の審査を受ける。

(2) 会話中 [] に共通してあてはまる最も適当な語を、漢字2字で書きなさい。

(3) 下線部 b に関連して、日本における裁判や裁判所について述べた次のA~Dの文のうち、正しい
ものが二つある。その二つを正しく組み合わせてあるものはどれか。下のア~エのうち最も
適当なもの一つを選び、その符号を書きなさい。

A : 裁判は、公開の法廷で行うことを原則としているが、国民の基本的人権にかかわる裁
判については、人権保護のため非公開で行われる。

B : 内閣総理大臣は、国家的に重要な裁判に対しては、その裁判を行う裁判官に助言を与
えるなど、ある程度裁判に干渉することができる。

C : すべての裁判所には、法律や命令などが憲法に違反していないかどうかを審査する違
憲立法審査権(法令審査権)がある。

D : 最高裁判所は、違憲か合憲かを最終的に決める権限をもつ終審裁判所であり、その意
味で「憲法の番人」とよばれる。

ア AとB イ AとD ウ BとC エ CとD

7 次の I、II の文章を読み、あとの(1)~(3)の問いに答えなさい。

I 国権の最高機関であって、国の唯一の立法機関である国会は、衆議院と参議院で構成されています。法律を制定する場合、法律案は、国会議員または内閣によってどちらかの議院に提出され、専門の委員会で審議されたのち、本会議で審議・議決されます。本会議で可決された法律案は、もう一方の議院に送られ、同じ手続きを経て、可決されれば、法律として成立しますが、両議院の議決が異なる場合には、衆議院の議決が優先されます。

II 日本国憲法では、「行政権は、内閣に属する。」(第65条)と定められ、内閣は行政を担当する最高の国家機関となっており、内閣総理大臣とその他の国務大臣で構成されています。わが国の内閣は、国会に対して連帯して責任を負っており、国会の信任にもとづいて成立しています。このしくみを議院内閣制といいます。

(1) 下線部 a に関連して、下の文は、衆議院の優越が認められている理由について述べたものである。文中の にあてはまる適当なことを、「任期」「解散」「世論」の三つの語を用いて、**25字以内**(読点も含む。)で書きなさい。

衆議院は参議院に比べて と考えられるから。

(2) 下線部 b に関連して、内閣の仕事にあてはまるものはどれか。下のア~エのうちから最も適当なものを選び、その符号を書きなさい。

ア 政令の制定 イ 条約の承認 ウ 憲法改正の発議 エ 弾劾裁判所の設置

(3) 下線部 c に関連して、国務大臣について正しく説明した文はどれか。下のア~エのうちから最も適当なものを選び、その符号を書きなさい。

ア 国務大臣は、すべて国会議員でなければならない。
イ 国務大臣は、すべて衆議院議員でなければならない。
ウ 国務大臣の過半数は、国会議員でなければならない。
エ 国務大臣の過半数は、衆議院議員でなければならない。

8 次の文章を読み、あとの(1)、(2)の問いに答えなさい。

日本国憲法は、基本的人権の尊重を三大原理の一つとしています。この日本国憲法が保障している自由権や平等権は、17世紀~18世紀の市民革命を通じて確立された権利です。自由権には、精神の自由・身体^aの自由・経済活動の自由の3つがあります。平等権については、憲法第14条で「すべて国民は、法の下に平等であって、人種、信条、性別、社会的身分又は^{職業}門地により、政治的、経済的又は社会的関係において、差別されない。」と定めています。また、社会権として健康で文化的な最低限度の生活を営む権利・教育を受ける権利・労働基本権(労働三権)などを保障しています。基本的人権を守るための権利としては、参政権や裁判を受ける権利などがあります。さらに、憲法には規定されていませんが、社会状況の変化に対応して、新しい人権が主張されるようになってきました。

(1) 下線部 a に関連して、身体の自由に含まれるものはどれか。下のア~エのうちから最も適当なものを選び、その符号を書きなさい。

ア 信教の自由 イ 奴隷的拘束からの自由
ウ 居住・移転の自由 エ 職業選択の自由

(2) 下線部 b に関連して、新しい人権の一つとして、プライバシーの権利がある。このプライバシーの権利とは、どのような権利か。「私生活」「個人」という語を用いて、**25字以内**(句読点も含む。)で書きなさい。

学力検査 社会 第5回 解答用紙

答えは、すべてこの解答用紙に書き、解答用紙だけ提出しなさい。

(1)	年代の古い順	1	2	3	
	符号				
(2)	(3)				
(4)	京葉	瀬戸内			
(1)	(2)	(3)			
(4)	①	②			
(1)	(2)				
(3)	I	II			
(4)	① ロシア	バン格拉デシュ	マレーシア		
	②				
(1)	(2)	年代の古い順	1	2	3
(3)	符号				
(4)	(3)	X	Y		
(5)					

(1)	(2)				
(3)					
(4)	I	II			
(5)	X	Y	Z		
(1)	(2)				
(1)	(2)				
(3)					
(1)					
(2)					
(3)					

受検番号

氏名

総得点

1 次の文章を読み、あとの(1)~(4)の問いに答えなさい。

東京は、明治時代に首都となり、商工業の発達とともに人口が集中して世界有数の大都市に成長し、日本ばかりでなく、アジアや世界の中心の一つとなっています。周辺の県とは、日常生活や産業活動などで強く結びついた大都市圏が形成されています。毎日250万人をこえる人々が東京へ通っており、^a千葉県からの通勤・通学者も多く見られます。また、日本では、各地のさまざまな社会条件や自然条件を生かした特色ある産業が発展しています。

日本の近海^bは、世界的にもよく知られた豊かな漁場で、古くから漁業がさかんに行われてきました。漁船の動力化や大型化によって、日本の漁業は、近海を漁場とするものから、世界の海洋を漁場とするものへと発展してきましたが、近年の総漁獲量は下降傾向にあります。また、乱獲による資源の減少が問題になっており、これからは漁業^cのあり方を転換していく必要があるといわれています。

日本の工業は、京浜工業地帯・中京工業地帯・阪神工業地帯・北九州工業地帯の四大工業地帯を中心に発達してきましたが、工業用地や工業用水の不足などの問題をかかえて、全国に占める割合が低下してきています。また、第二次世界大戦後^d、四大工業地帯を結びつけるように、新しい工業地域がつくられ、鉄鋼・石油化学・機械などの大工場が建てられました。

(1) 下線部 a に関連して、下のア～ウの文は、千葉県に関係ある人物やできごとに関して述べたものである。ア～ウの文を、年代の古いものから順に並べ、その符号を書きなさい。

- ア 廃藩置県が行われ、印旛県、木更津県がおかれ、中央から県令が派遣された。
- イ 千葉県に領地を持っていた平将門は、自らを新皇と称し東国で反乱をおこした。
- ウ 千葉県で生まれた日蓮は、法華経を重んじ、日蓮宗(法華宗)を開いた。

(2) 下線部 b に関連して、下の文中の [] に共通してあてはまる最も適当な語を、漢字4字で書きなさい。

日本は島国で離島が多いため、それぞれの沿岸からの200海里の [] を合わせると、[] の面積は国土の10倍以上となり、世界有数の広さをほこる。

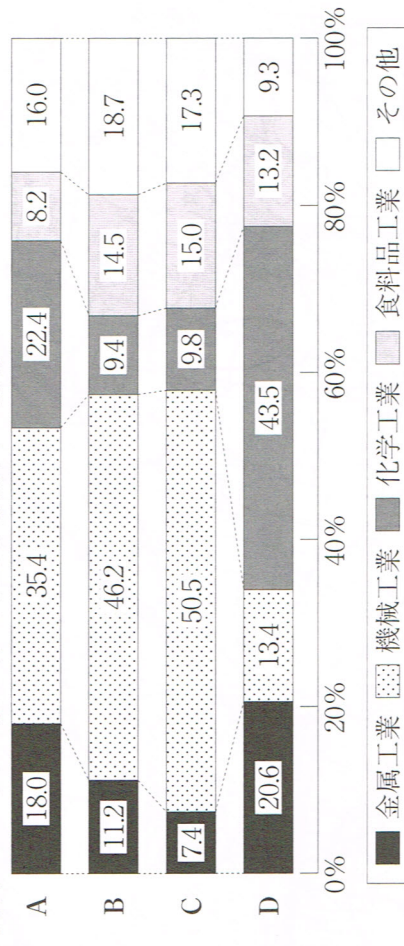
(3) 下線部 c に関連して、下の文章の [] にあてはまる最も適当な語を、漢字4字で書きなさい。

近年日本では、「とる漁業」から「育てる漁業」へと切りかえ、政府もこれを積極的に援助している。「育てる漁業」の一つとして、三陸海岸や瀬戸内海などでは、卵から育てた稚魚を放流し、成長してからとる [] がさかんである。

(4) 下線部 d に関連して、下の資料1は、おもな工業地域の製造品出荷額の構成を示したものであり、資料2は、その工業地域に含まれる県の製造品出荷額の構成を示したものである。また、資料3は、日本のおもな石油化学コンビナートの分布を示している。

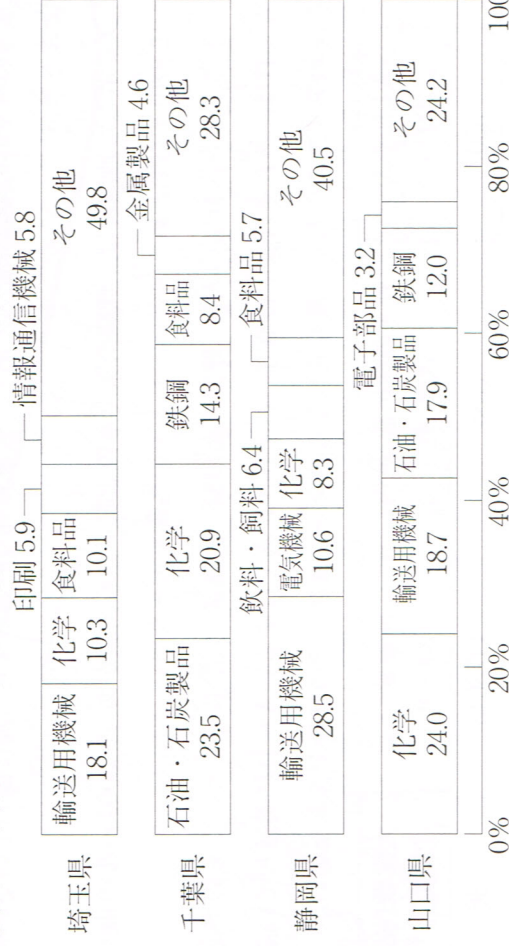
資料1中のA～Dは、関東内陸工業地域・京葉工業地域・東海工業地域・瀬戸内工業地域のいずれかを示している。その中で、京葉工業地域と瀬戸内工業地域を示しているものはどれか。A～Dのうちからそれぞれ一つずつ選び、その符号を書きなさい。

資料1 おもな工業地域の製造品出荷額の構成



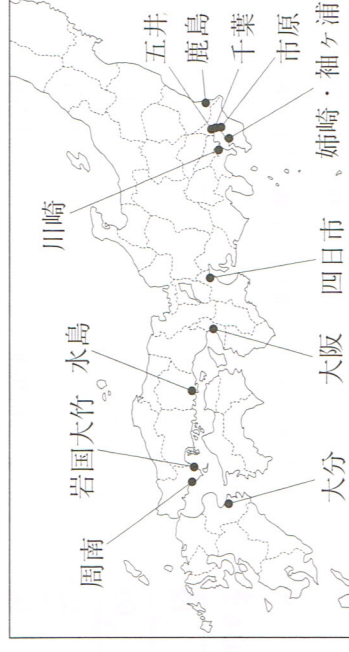
資料2 資料1の工業地域に含まれる県の製造品出荷額の構成

(「日本国勢図会2011/12年版」より作成)

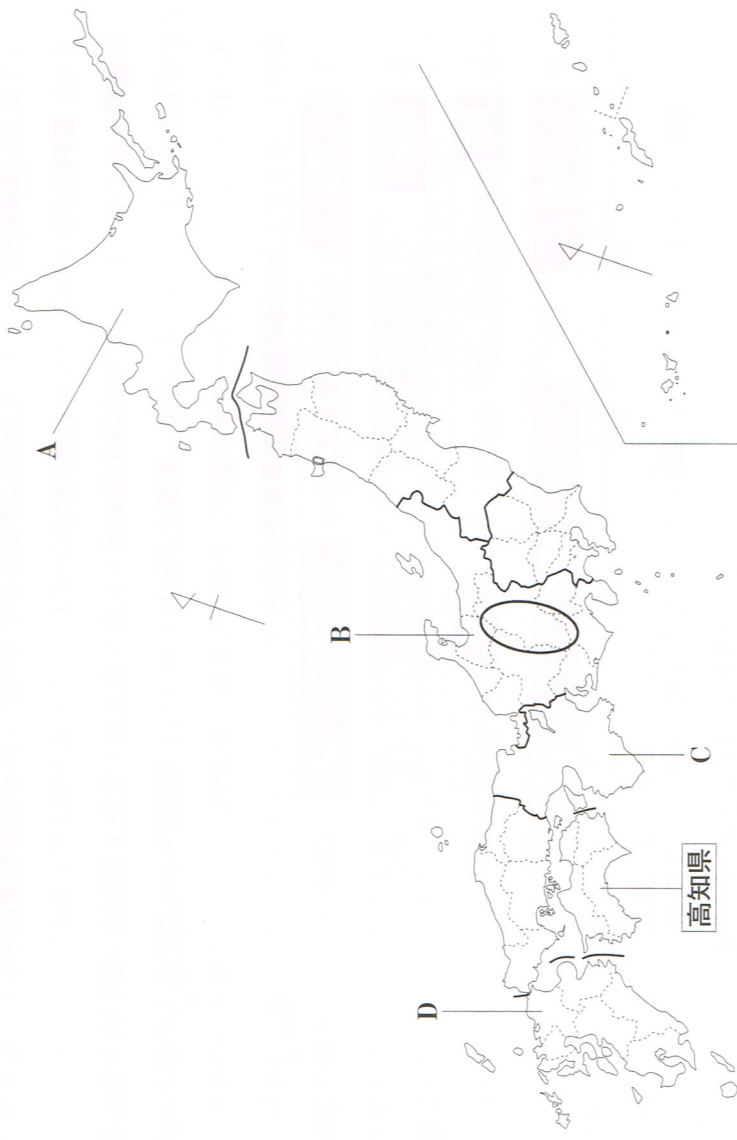


資料3 日本のおもな石油化学コンビナートの分布

(「データでみる県勢2011年版」より作成)



2 次の図を見て、あとの(1)~(4)の問いに答えなさい。



- (1) 図中の近畿地方の府や県の境は未記入である。近畿地方の府県のうち、海に面していない府県の数を数字で書きなさい。
- (2) 図中の○で示した地域には、飛騨山脈、木曾山脈、赤石山脈があり、3000 m級の山々が連なっている。この山々をまとめて何というか。その名称を書きなさい。

(3) 下の表は、日本の7地方区別の人口、野菜の産出額、漁獲量、大学数をまとめたものである。また、図中のA~Dは、それぞれ表中の地方のいずれかにあてはまる。A~Dに共通していることとは何か。下のア~エのうち最も適当なものを一つ選び、その符号を書きなさい。

	人口(千人) (2009年)	野菜の産出額(億円) (2008年)	漁獲量(t) (2008年)	大学数(校) (2010年)
北海道	5507	1786	1473645	36
東北	9370	2284	862351	48
関東	42053	6278	359874	256
中部	21774	3376	476539	131
近畿	22684	1290	375345	157
中国・四国	11559	2170	684015	69
九州	14566	3923	459503	81

(「データでみる県勢2011年版」より作成)

- ア 関東地方より人口が多い。
- ウ 関東地方より漁獲量が多い。
- イ 関東地方より野菜の産出額が多い。
- エ 関東地方より大学の数が多い。

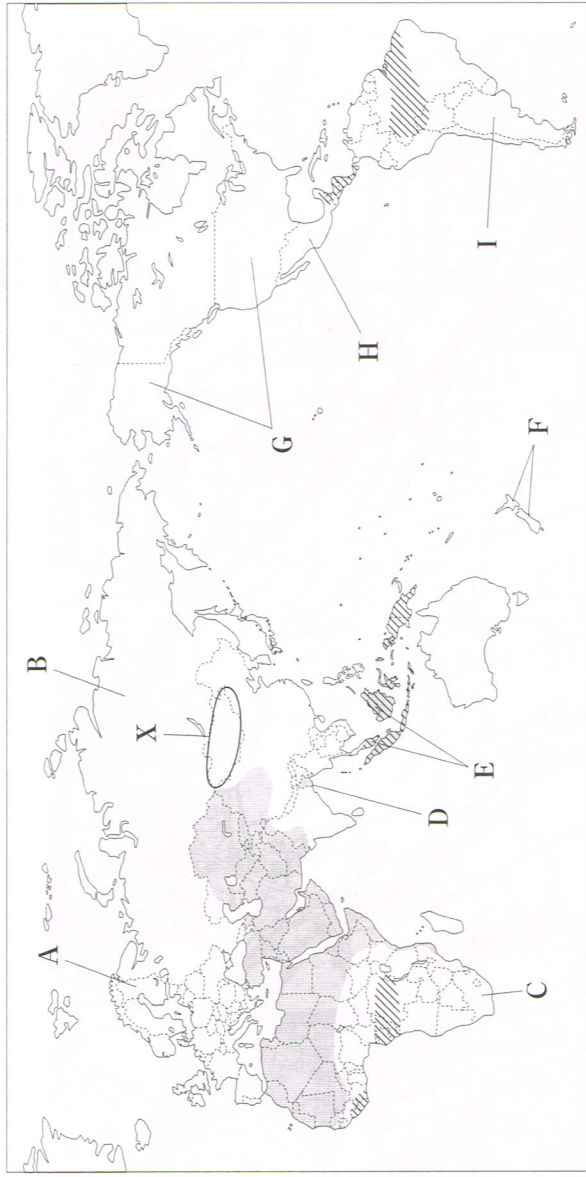
(4) 下の地形図は、前のページの図中の高知県の一部を示したものである。これを見て、下の①、②の問いに答えなさい。



(国土地理院平成12年発行1:50,000「高知」原図より作成)

- ① 地形図中の「高知空港」の滑走路は、実際の距離は約何 m か。下のア~エのうちから最も適当なものを一つ選び、その符号を書きなさい。
- ア 100 m イ 200 m ウ 1000 m エ 2000 m
- ② この地形図を正しく読み取ったことからはどれか。下のア~エのうちから最も適当なものを一つ選び、その符号を書きなさい。
- ア 「高知空港」の周辺は水田が広がっており、住宅は見られない。
- イ 「物部川」流域には水力発電所が見られる。
- ウ 「物部川橋」から「後免町」にかけては、ほぼ平坦な地形である。
- エ 「ごめん」駅は「とさやまだ」駅から見て、北東の方向にある。

3 次の図を見て、あとの(1)~(4)の問いに答えなさい。



(注) 国境に一部未確定部分がある。

(1) 図中の で示した地域の気候と植生について述べた文はどれか。下のア~エのうちから最も適当なものをつ選び、その符号を書きなさい。


ア 一年を通じて降水量が少ないが、雨季には丈の短い草原が広がる。

イ 一年を通じて気温が低く、タイガとよばれる針葉樹の森林が広がっている。

ウ 一年を通じて気温が高く、樹木が生い茂る密林が広がっている。

エ 四季の変化がはつきりしており、常緑広葉樹と落葉広葉樹の森林が広がる。

(2) 図中のXの地域では、ヒツジなどの家畜を飼い、えさとなる草や水を求めて移動する遊牧が行われている。この地域で見られる家屋はどれか。下のア~エのうちから最も適当なものをつ選び、その符号を書きなさい。



(3) 図中の で示した地域で多くの人々が信仰している宗教について、下の文中の I , II にあてはまる最も適当な語を、カタカナで書きなさい。

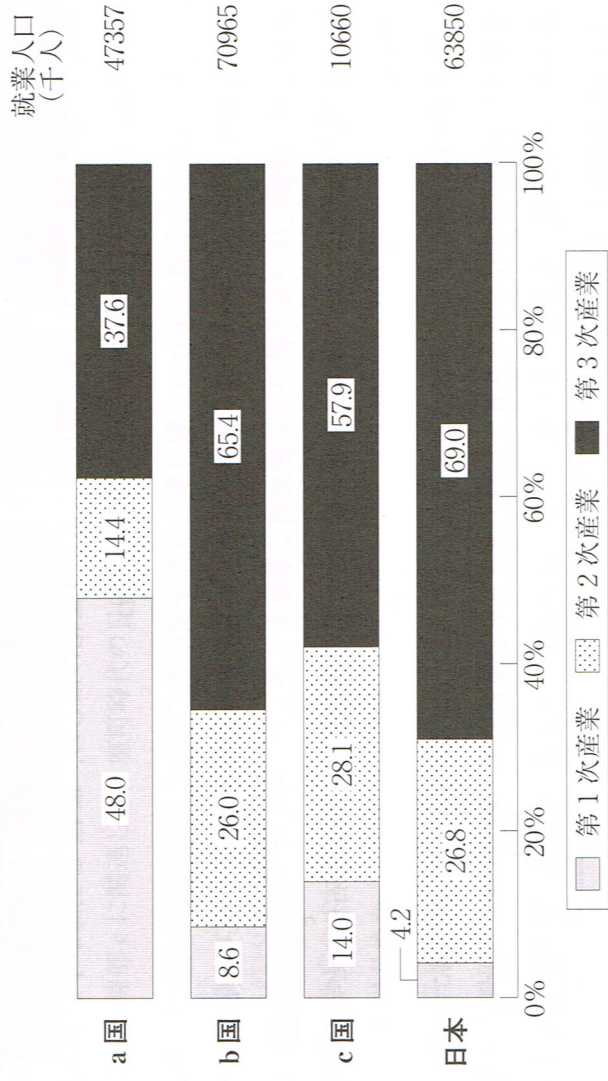
唯一絶対の神アラーを信仰する I 教は、1日に5回聖地 II に向かって礼拝し、1年に一度断食をするなどの戒律がある。

(4) 下の資料は、日本とロシア、バングラデシュ、マレーシアの4か国の産業別人口の割合と就業人口を示したものである。これに関連して、①、②の問いに答えなさい。

① ロシア、バングラデシュ、マレーシアの位置を図中のA~Iのうちからそれぞれ一つずつ選び、その符号を書きなさい。

② 資料中のa国、b国、c国の国名の組み合わせはどれか。下のア~エのうちから最も適当なものをつ選び、その符号を書きなさい。

資料 4 4か国の産業別人口の割合と就業人口



(注) 日本、ロシア、マレーシアは2008年、バングラデシュは2005年の統計。

(「世界の統計2010年版」より作成)

- ア a国：マレーシア b国：バングラデシュ c国：ロシア
 イ a国：バングラデシュ b国：ロシア c国：マレーシア
 ウ a国：マレーシア b国：ロシア c国：バングラデシュ
 エ a国：バングラデシュ b国：マレーシア c国：ロシア

4 社会科の授業で、あるグループが「日本と宗教」について調べました。そのときの、生徒A～Eの会話を読み、あとの(1)～(5)の問いに答えなさい。

A 日本では、縄文時代^aや弥生時代、それに続く古代社会では、自然や祖先をまつる原始的な宗教やそれから発展した宗教が信仰されていました。でも、6世紀に大陸から仏教が伝わると、それ以後の日本では仏教の影響を受けた文化が発達するようになりました。

B そうだね。日本で最初に仏教文化の花が開いたのは、6世紀から7世紀はじめの飛鳥文化^{あすか}だけだと、やがて仏教によって国を守るという考え方が広まり、8世紀には奈良の都を中心^{ちゅう}に天平文化^{てんぴやう}が栄えたんだ。^b平安時代に入ると9世紀のはじめ、最澄^{さいじやう}と空海^{くうかい}が中国から天台宗^{たいたいしゆん}と真言宗^{しんごん}を伝え、貴族の間に広まったんだよね。

C うん。それから仏教が伝わって数百年たった平安時代の末から鎌倉時代にかけて、だれにでもわかるやさしい教えで救いを説く^{しよん}、新しい仏教がおこったんだ。これを鎌倉新仏教^{かまくらしんぶつぎやう}とって、貴族だけでなく武士や庶民の間にも広まったんだ。そして、次の室町時代^{むろまち}には、特に禅宗がさかんになり、禅宗の影響を受けて、石と砂で庭園をつくる石庭^{いしぢやう}などが発達したんだ。


D そうですね。そうした中で16世紀に入ると、ヨーロッパ人が来航して、それにとってもなつてキリスト教が日本にもたらされました。キリスト教は西日本の戦国大名たちによつて保護^{ほご}され、民衆の間にも広まりました。でも、16世紀末、天下統一に成功した豊臣秀吉^{とよとみひでよし}はキリスト教を禁止しました。

E うん。この方針は江戸幕府^{えど}にも受けつがれたよね。江戸幕府はキリスト教をきびしく弾圧^{だんあつ}するとともに、すべての日本人をいずれかの寺院に所属させる政策をとったけれども、仏教はかえってはずつとつさを失い、仏教の社会への影響も以前と比べ少なくなつたんだ。

(1) 下線部 a に関連して、縄文時代の日本の様子について述べた文章はどれか。下のア～エのうちから最も適当なものを一つ選び、その符号を書きなさい。

- ア 狩猟・採集を中心とした生活が行われ、人々は集団で移動しながら、地面を掘り下げ、屋根を草でふいた住居に住んだ。土器もつくられるようになった。
- イ 各地に天皇や豪族の大きな墓(古墳)がつくられた。古墳内部の石室や棺^{ひつぎ}には、死者とともに鏡・玉・宝剣や鉄製の武器・馬具などがおさめられた。
- ウ 稲作が広まり、金属器がつくれ、住居のほかに高床の倉庫もつくられた。このころの社会には貧富の差が生じ、有力な者が他の者を支配するようになった。
- エ 狩猟・採集を中心とした生活が行われ、人々は岩かげやほら穴に住んだ。打製石器を使用していたが、土器はまだつくられていなかった。

(2) 下線部 b に関連して、平安時代より後につくられた文化財を下のア～エのうちから三つ選び、年代の古いものから順に並べ、その符号を書きなさい。



(3) 下線部 c に関連して、室町時代の日本の様子について述べた文はどれか。下のア～エのうちから最も適当なものを一つ選び、その符号を書きなさい。

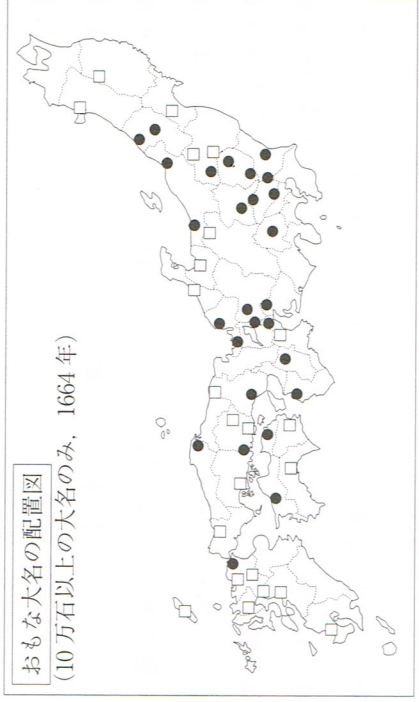
- ア 惣とよばれる農民の自治的な組織がつくれ、団結した農民によつて土一揆^{どいつげん}がおこった。
- イ 壱田永年私財法^{いつでんえいねんしざいはう}によつて、新しく開墾した土地の私有が認められ、荘園が形成されはじめた。
- ウ 悪党とよばれる新しい武士たちが、近畿地方を中心に成長し、荘園領主や幕府の支配に反抗しはじめた。

エ 各地の地方豪族が力をつけ、東北地方では、平泉を根拠地とする藤原氏が勢力をのばした。

(4) 下線部 d に関連して、下の文章中の X, Y にあてはまる最も適当な語を、それぞれ漢字 2 字で書きなさい。

天下統一を成し遂げた豊臣秀吉は、年貢を確実に取り立てるために X を全国で行い、農民の一揆を防ぎ、農業に専念させるために Y を行い、兵農分離を進めた。

(5) 下線部 e に関連して、下の図は、江戸幕府が大名を全国に配置した様子を示したものである。図を参考にして、下の文章中の □ にあてはまる最も適当な語を、漢字 2 字で書きなさい。



図中に□で示された □ 大名は、東北や九州など江戸から遠い地域に配置された。

5 次の略年表を見て、あとの(1)～(5)の問いに答えなさい。

日本のできごと	世界のできごと
1901年 八幡製鉄所の操業が始まる。	1914年 第一次世界大戦が始まる。
1915年 中国に対して二十一条の要求を出す。 A	1919年 ベルサイユ条約が結ばれる。
1925年 普通選挙法が成立する。 B	1929年 世界恐慌がおこる。
1931年 満州事変がおこる。 X	1939年 第二次世界大戦が始まる。
1945年 ポツダム宣言を受諾する。 C	1950年 朝鮮戦争がおこる。 Y
1956年 国際連合に加盟する。 Z	1969年 アポロ11号が月面着陸に成功する。
1970年 大阪で万国博覧会が開催される。	1990年 東西ドイツが統一される。 D
2000年 九州・沖縄サミットが開催される。	

(1) 下線部Aに関連して、下の文はその後の中国について述べたものである。下の文中の□にあてはまる最も適当な語を、下のア～エのうちから一つ選び、その符号を書きなさい。

北京での学生集会をきっかけに、中国ではAの取り消しを求め運動が高まり、帝国主義の侵略に反対する□へと発展した。

- ア 二・二六事件
- イ 三・一独立運動
- ウ 五・一五事件
- エ 五・四運動

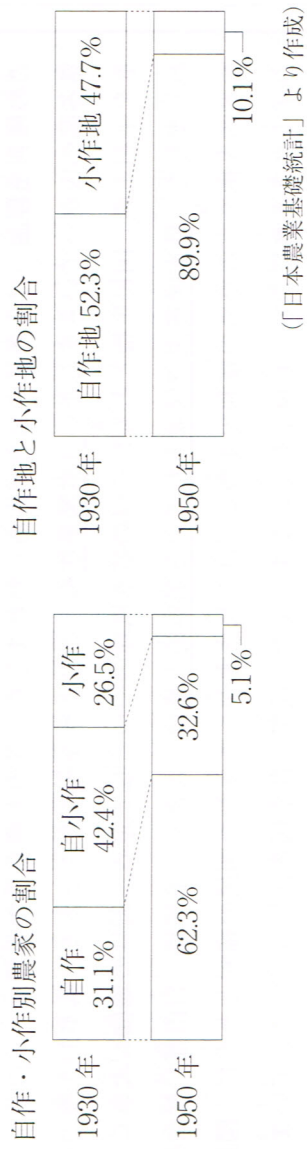
(2) 下線部Bに関連して、このころの日本の政治や社会の様子について述べた文として最も適当なものを、下のア～エのうちから一つ選び、その符号を書きなさい。

- ア シベリア出兵を見こした商人が米を買い占めたため、米価が高騰し米騒動がおこった。
- イ 社会主義運動が高まり、その拡大をおさえるために、治安維持法が制定された。
- ウ 軍部の力が強まり、満州国不承認の態度をとった犬養毅首相が暗殺され、政党政治がかわりを告げた。

エ 中国との間で日清戦争がおきたが、日本が勝利して下関条約が結ばれた。

(3) 下線部Cに関連して、下の資料は、このできごとの前後の自作農・小作農、自作地・小作地の割合を示したものである。下の文中の□にあてはまる適当なことを、「自作農」、「小作農」、「地主」という三つの語を用いて、35字以内(読点を含む。)で書きなさい。

資料



この資料による変化に最も関係が深い改革は、農地改革といえる。その目的は□ということであった。

(4) 下線部Dに関連して、下の文章は、このできごとについてまとめたものである。文章中の□I、□IIにあてはまる適当な語を書きなさい。なお、□Iはカタカナで、□IIは漢字2字で書きなさい。

自由を求める東ドイツ国民の要求の前に、□Iの壁はついに開放された。長い間、東西対立の象徴となっていた壁の崩壊は、衛星中継を通して世界中に伝えられ、人々に□IIの終わりを印象づけた。

(5) 下のア～ウの3枚のカードは、略年表中の□X、□Y、□Zの時期におけるできごとについて説明したものである。□X、□Y、□Zそれぞれには、ア～ウのどのカードがあてはまるか、その符号を書きなさい。

ア	イ	ウ
GHQの指令で設置された警察予備隊は保安隊になり、陸上、海上、航空の3つの部隊からなる自衛隊へと発展した。	日中戦争解決のための日米交渉がうまくいかなくなるなか、日本はハワイの真珠湾を奇襲攻撃し、太平洋戦争が始まった。	アジアで初めてのオリンピックが東京で開かれ、開催に向けて東海道新幹線や高速道路が建設され、好景気が訪れた。

6 次の文章を読み、あとの(1)、(2)の問いに答えなさい。

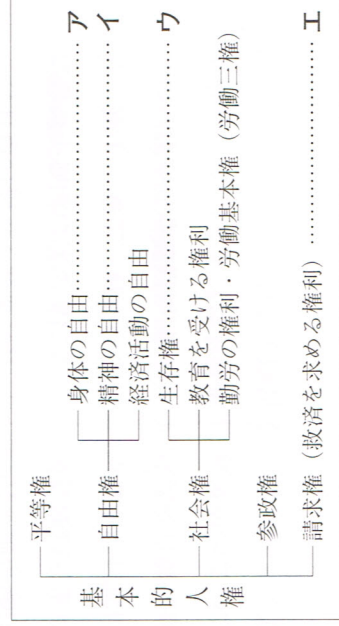
人権尊重の考え方は、人類の多年にわたる努力により、社会の発展とともににだいに広がってききました。17世紀～18世紀の市民革命の根底には、人権尊重の精神が脈うっており、この権利を理論づける多くの思想家もあらわれました。この人権尊重の思想は、その後、世界各国へ広がっていききました。^a日本国憲法も、このような流れをふまえて、基本的人権の尊重を平和主義、国民主権とともに三つの基本原理の一つとして定め、天皇の地位も大きく変わりました。^b日本国憲法で保障されている基本的人権は、大きく、平等権、自由権、社会権、基本的人権を守るための権利の4つに分けられますが、こうした国民の権利とともに、国民の守るべき義務についても規定しています。また、近年、日本国憲法には規定されていませんが、社会の状況の変化に対応して、新しい人権が主張されるようになりました。

(1) 下線部 a に関連して、次の文章中の A B C にあてはまる語の組み合わせはどれか。下のア～エのうちから最も適当なものを選び、その符号を書きなさい。

基本的人権について、日本国憲法では第11条で「この憲法が国民に保障する基本的人権は、侵すことのできない A の権利として、現在及び将来の国民に与えられる。」と定められている。しかし、他の人々との共同生活があたりまえになっている現代の社会では、他の人々を無視してまで、基本的人権を認めることはできない。そこで第12条では、「国民は、これを濫用してはならないのであって、常に B のためにこれを利用する C を負ふ。」と定めている。

- ア A：永久 B：幸福の追求 C：義務
 イ A：永久 B：公共の福祉 C：責任
 ウ A：普遍 B：公共の福祉 C：義務
 エ A：普遍 B：幸福の追求 C：責任

(2) 下線部 b に関連して、右の図は、日本国憲法で保障されている基本的人権について簡略に分類したものである。次の文で述べている内容に最も関係の深いものはどれか。図中のア～エのうちから最も適当なものを選び、その符号を書きなさい。



国や地方公共団体では、介護の必要な高齢者に身のまわりの世話などのサービスを行っている。

7 次の文章を読み、あとの(1)～(3)の問いに答えなさい。

日本国憲法は、立法権・行政権・司法権をそれぞれ独立した機関に分けるといって三権分立のしくみをとっています。

立法権をもつ国会は、国民の代表者である国会議員によって構成され、衆議院と参議院とで構成されています。両議院は議員の任期、被選挙資格、選挙区などにちがいがああり、また両議院の議決が一致しないときは衆議院の議決が優越する場合があります。^a

行政権は内閣にあります。わが国では内閣が国会から生まれ、国会との信頼関係にもとづいて成立し、国会に対して連帯して責任を負うという議院内閣制がとられています。行政の仕事は、国民生活のさまざまな分野にわたっており、今日ではその仕事はますます拡大する傾向にあります。

司法権は裁判所にあります。裁判は国民の自由や権利を守り、社会の秩序を保つ役割を果たすものですから、裁判所は他の国家機関から独立しています。そのために裁判官の身分や地位は特別に保障されています。^b

- (1) 下線部 a に関連して、現在、衆議院議員の総選挙でとられている選挙制度はどれか。下のア～エのうちから最も適当なものを選び、その符号を書きなさい。
- ア 各都道府県を選挙区とする選挙区制と全国を一つの選挙区として行われる比例代表制の並立制。
 イ 各都道府県を選挙区とする選挙区制と全国を11のブロックに分けて行われる比例代表制の並立制。
 ウ 1選挙区から1名を選出する小選挙区制と全国を一つの選挙区として行われる比例代表制の並立制。

エ 1選挙区から1名を選出する小選挙区制と全国を11のブロックに分けて行われる比例代表制の並立制。

- (2) 下線部 b に関連して、衆議院と参議院で異なった議決をした法律案が、法律となる場合はどれか。下のア～エのうちから最も適当なものを選び、その符号を書きなさい。

- ア 衆議院で出席議員の過半数で再び可決したとき。
 イ 衆議院で総議員の過半数で再び可決したとき。
 ウ 衆議院で出席議員の3分の2以上の多数で再び可決したとき。
 エ 衆議院で総議員の3分の2以上の多数で再び可決したとき。

(3) 下線部 c に関連して、日本の裁判は一つの事件について原則として3回まで裁判を受けることができ、これを三審制という。下の文は、日本で三審制がとられている理由について述べたものである。文中の にあてはまる最も適当なことを、「あやまち」、「基本的人権」の二つの語を用いて、20字以内(読点も含む。)で書きなさい。

裁判を慎重に行うことによって ため。

8 次の文章を読み、あとの(1)~(3)の問いに答えなさい。

国民経済は、家計、^a企業、政府(国や地方公共団体)から成り立っています。私たちが日常生活で消費する商品やサービスの多くは企業によって生産・販売されています。日本のような資本主義経済では、企業は自由競争にもとづく経済活動を行うことを原則としています。しかし、この自由な経済活動が、恐慌や少数の企業が独占することによる弊害^bをもたらしたことから、経済活動に果たす政府の役割は大きくなってきました。政府は、公共的なものやサービスを提供することだけではなく、経済の安定した成長をはかるために、財政支出や税金を増減したり、日本銀行を通じて通貨量の調節をしたりすることによって経済活動の調整につとめています。また、経済活動にもなう弊害を防ぐために、法律にもとづいてさまざまな規制や保護を行っています。

(1) 下線部 a に関連して、企業の代表的なものに株式会社がある。株主となって出資をした会社が事業に失敗したとき、出資者の責任はどうなるか。その責任について述べた文として最も適当なものを下のア~エのうちから一つ選び、その番号を書きなさい。

ア 出資した人は、出資した範囲をこえて、会社がかかえているすべての負債(借金)について責任を負う。

イ 出資した人は、会社がかかえている負債の半分について責任を負わなければならない。

ウ 出資した人の中でも、一定額以上の出資をした人は、出資した範囲以上の責任を負う。

エ 出資した人は、出資した範囲内で損失を受けるだけで、それ以上の責任を負う必要はない。

(2) 下線部 b に関連して、下の文章は、このことに対する日本の取り組みについてまとめたものである。文章中の [] にあてはまる適当なことを、「消費者」という語を用いて、15字以内(読点を含む。)で書きなさい。

日本では、企業による市場支配のいきすぎを防ぎ、[] を目的として、1947年に独占禁止法が制定された。そして、この法律の運用にあたるための行政機関として公正取引委員会が設けられた。

(3) 下線部 c に関連して、国や地方公共団体が徴収する税金には、直接税と間接税がある。間接税について述べた文として最も適当なものを下のア~エのうちから一つ選び、その番号を書きなさい。

ア 法人税、相続税、固定資産税は、この税に入る。

イ 商品の購入者は所得の多少にかかわらず、同額の税金を支払う。

ウ 扶養する人数によって税の負担が軽くなる。

エ 累進課税の方法によって、所得が多いほど税率が高くなっている。

社会 第1回 解答と解説

【解答】	【配点】
1 (1) ウ (2) ウ→ア→イ (3) 過密 (4) エ	1 各3点×4
2 (1) 青森 (2) W イ X ア Y ウ (3) エネルギー革命 (4) ① イ ② ウ	(2) 完答 2 各3点×5
3 (1) 南極大陸 (2) X-X' ア Y-Y' イ (3) イヌイット (4) ウ B エ E	(2) 完答 3 各3点×5
4 (1) イ (2) 大宝 (3) イ→ア→エ→ウ (4) ア (5) 例 札差からの借金を返さなくてよい(15字)	(2) 完答 4 (5) 4点
5 (1) イ (2) X イ Y エ Z ア (3) エ (4) ア (5) 冷戦(冷たい戦争)	他各3点×4 (3) 完答
6 (1) エ (2) 勤労 (3) ワイマール	5 (2) 4点(完答)
7 (1) ウ (2) 例 出産や育児のために仕事を中断する女性が多くいるから。(26字)	他各3点×4
8 (1) イ (2) 例 銀行は、貸しつけの利子から預金の利子を差し引いたものを利潤としている(34字)	6 各3点×3
(3) 25	7 (1) 3点 (2) 4点
	8 (2) 4点 他各3点×2

1 融合問題

- (1) 4県のうち、人口が2番目に多いことから判断する。
- (2) ウは鎌倉時代の文化、アは桃山文化(安土桃山時代)、イは化政文化(江戸時代)。
- (3) 過密の反対を過疎といい、高齢化などで人口が減少し社会生活を維持していくことが困難になっている地域をいう。農山村部や離島などに見られる。

2 日本地理

- (1) Bは埼玉県(さいたま市)、Cは高知県(高知市)、Dは鹿児島県(鹿児島市)。
- (2) Wは新潟県で、米の生産がさかんなのでイ。Xは長野県で、高原野菜であるキャベツの生産量が3県のうちで最も多いのでア。Yは山梨県で、ぶどうの生産がさかんなのでウ。
- (4) ① めもりを参考にすると、地形図上では約2cm。2万5000分の1の地形図なので、 $2(\text{cm}) \times 25000 = 50000(\text{cm}) = 500(\text{m})$ 。
② ア 周辺には高等学校だけでなく小・中学校もある。また、城跡ではなく記念碑なので誤り。
イ 水準点ではなく三角点なので誤り。
エ 桑畑ではなく果樹園なので誤り。

3 世界地理

- (1) 六大陸とはユーラシア大陸、アフリカ大陸、北アメリカ大陸、南アメリカ大陸、オーストラリア大陸、南極大陸である。
- (3) イヌイットは1年中氷や雪におおわれた地域に住んでいる。雪の家に住み、毛皮や革でできた衣服を着ている。
- (4) アは3位に隣国であるアルゼンチンがあることからCのブラジル。イはアメリカ合衆国が貿易額の大部分を占めているのでAのカナダ。カナダはアメリカ合衆国・メキシコとNAFTA(北米自由貿易協定)を結んでいる。ウはドイツなどのEU加盟国が貿易額の大部分を占めているのでBのフランス、エは中国や日本などアジアの国々が上位を占めることからEのオーストラリア、オは輸出総額の1位にシンガポールがあることからDのマレーシア。

4 歴史(飛鳥時代～江戸時代に関する問題)

- (1) 法隆寺は、聖徳太子が斑鳩地方(奈良盆地西部)に建て

たもので、飛鳥時代を代表する建造物である。また、アは日光の社寺、ウは姫路城、エは原爆ドームの位置を示したものであり、いずれも世界遺産に登録されている。

- (3) イは645年、アは708年、エは743年、ウは816年。
- (4) イは国風文化、ウは鎌倉時代の文化、エは桃山文化の説明。

5 歴史(近代・現代史に関する問題)

- (1) Aは1871～1873年のできごと。アは1867年、ウは第二次世界大戦後の農地改革、エは1925年の普通選挙法制定。
- (2) Xは1886年、Yは1902年、Zは1875年。
- (3) アは1931年、イは1900年、ウは1937年、エは1915年のできごとである。

6 公民(日本国憲法と基本的人権に関する問題)

- (3) 人間に値する生活を保障する権利(社会権)をはじめて規定したのはワイマール憲法である。このワイマール憲法は第一次世界大戦直後のドイツで1919年につくられた憲法で、正式名をドイツ共和国憲法という。憲法制定会議がワイマールで開かれたことから、ワイマール憲法という通称が使われる。

7 公民(現代の社会に関する問題)

- (1) 大気汚染を原因として発生した公害病は四日市ぜんそくである。アは新潟水俣病、イはイタイイタイ病、エは水俣病であり、すべて水質汚染を原因として発生した。

8 公民(政治・経済のしくみと国民生活と福祉に関する問題)

- (3) 日本の社会保障制度は、社会保険・社会福祉・公的扶助・公衆衛生の四つが基本的な柱となっており、日本国憲法の第25条の規定にもとづいて整備されている。

【採点基準】

- 4 (5) 同内容で可。「札差」の語(指定語句)のないものは不可。
- 7 (2) 同内容で可。「出産」「育児」の語(指定語句)のないものは不可。
- 8 (2) 同内容で可。「貸しつけ」「預金」「利子」「利潤」の語(指定語句)のないものは不可。

社会 第2回 解答と解説

【解答】	【配点】
1 (1) A 総会 B 安全保障理事会 (2) エ (3) イ→ウ→ア (4) ア	1 各3点×4
2 (1) 富山(県) (2) A イ B ウ C ア (3) X 対馬海流 Y 北西 (4) ① 三角州 ② イ	(1)・(3)完答
3 (1) ア (2) ウ (3) (例) ヨーロッパの国々がアフリカ大陸を植民地として分割(24字)	2 各3点×5 (2)・(3)完答
(4) ① インド H イタリア C エチオピア F ② エ	3 (3)4点 他各3点×4
4 (1) イ (2) エ (3) エ→ア→ウ→イ (4) 土一揆 (5) (例) 農民から確実に年貢をとるため(14字)	(4)①完答
5 (1) ア (2) ウ (3) 火薬庫 (4) I イ II ウ III ア (5) イ	4 (5)4点 他各3点×4
6 (1) ア (2) 法	(3)完答
7 (1) イ (2) エ (3) エ	5 (4)4点(完答) 他各3点×4
8 (1) エ (2) (例) たとえ企業に過失がなくても、製造業者である企業に被害の救済を義務づける (35字)	6 各3点×2
(3) エ	7 各3点×3
	8 (2)4点 他各3点×2

1 融合問題

- (1) 安全保障理事会の常任理事国5か国には拒否権が認められている。
- (2) アは宮崎県、イは鳥根県、ウは福岡県、エは千葉県。
- (3) アは第二次世界大戦直後、イは江戸時代、ウは明治時代のできごとである。
- (4) イは中国の生産台数は約4割なので誤り。ウはインドに進出しているので誤り。エは最も多く進出しているのは中国なので誤り。

2 日本地理

- (2) Aは三重県、Bは栃木県、Cは兵庫県、Dは富山県。
- (4) ② ア 縮尺が5万分の1なので、
 $5.5(\text{cm}) \times 50000 = 275000(\text{cm}) = 2750(\text{m})$ 。
 ウ 方位記号がない場合、地図の上が北になるので、「雲出大橋」は南南東にある。
 エ 発電所ではなく工場である。

3 世界地理

- (1) Xを通る経線は東経140度、Yを通る緯線は北緯40度。
- (2) メルボルンは温帯に属する。アはバンコクで熱帯、イはオムスクで冷帯〔亜寒帯〕、ウはパリで温帯、エはリヤドで乾燥帯に属する。
- (3) アフリカ大陸の大部分が、19～20世紀にかけて、イギリス、フランスをはじめとするヨーロッパの国々の植民地となったが、第二次世界大戦後に独立した。
- (4) ② 総人口からc国がインド、日本と同じように65歳以上の人口の割合が高いことからb国がイタリア、0～14歳の人口の割合が高いことからa国がエチオピアとわかる。

4 歴史(弥生時代～江戸時代に関する問題)

- (1) アは奈良時代、ウは縄文時代、エは古墳時代の日本の社会のようすについて述べたものである。
- (3) エは1221年、アは1232年、ウは1274年、イは1297年。
- (4) 1428年には京都をはじめ近畿地方を中心に正長の土一揆がおこった。なかには幕府に徳政令を要求するものもあった。

5 歴史(近代・現代史に関する問題)

- (2) 日本は、ロシアの動きとともに警戒したイギリスと日英同盟(1902年)を結んだ。
- (4) Iは1936年、IIは1940年、IIIは1931年。

6 公民(基本的人権に関する問題)

- (2) 平等権は、基本的人権の基盤であり、法の下での平等、両性の本質的平等を規定している。

7 公民(政治のしくみに関する問題)

- (1) ア→衆議院議員の被選挙権は満25歳以上で、参議院議員の被選挙権は満30歳以上、ウ→参議院と対等の権限をもつ、エ→衆議院は、参議院に優越している。
- (2) 内閣総理大臣が議長となって、内閣の方針を決める会議を閣議という。全会一致で方針を決定する行政上の最高の意思決定機関である。各大臣は自分が担当している各省の重要事項について、閣議にはかり、意見が一致すれば、行政に実施される。

8 公民(経済のしくみに関する問題)

- (2) 製造物責任法(PL法)は、製品の欠陥で消費者がけがをするなどの被害を受けたとき、消費者を保護するためにつくられた法律である。この法律では、商品の設計ミス、生産のミス、説明不足などが原因である被害を損害賠償の対象として認め、これらについての立証責任を生産者が負うしくみになっている。

【採点基準】

- (3) 同内容で可。「アフリカ大陸」「分割」の語(指定語句)のないものは不可。
- (5) 同内容で可。「農民」「确实」の語(指定語句)のないものは不可。
- (2) 同内容で可。「企業」「過失」「救済」の語(指定語句)のないものは不可。

〔写真〕悠工房

社会 第3回 解答と解説

【解答】	【配点】
1 (1) ウ→ア→イ (2) エ (3) レアメタル (4) 資料1 ア 資料2 エ 資料3 イ	1 各3点×4 (1)・(4)完答
2 (1) A (2) <u>X</u> ウ <u>Y</u> ア <u>Z</u> イ (3) やませ (4) ① エ ② イ	2 (2)4点(完答) 他各3点×4
3 (1) イ (2) ユーラシア (3) エ (4) ① エ ② アラブ首長国連邦 E オーストラリア I インドネシア G	3 各3点×5 (4)②完答
4 (1) エ (2) ウ (3) ア (4) 楽市・楽座 (5) ウ→エ→ア→イ	4 各3点×5 (5)完答
5 (1) エ (2) ウ (3) ア (4) (例) 満州国の建国を認めず、満州からの日本軍の撤兵を勧告したこと(29字) (5) 時期 Y 県 イ	5 (4)4点 他各3点×4 (5)完答
6 (1) ウ (2) (例) 判決に国民の感覚が反映される(14字)	6 (1)3点 (2)4点
7 (1) ア (2) (例) 資金を小さな金額の株式に分け、多くの人から集めることができるから。 (33字) (3) イ	7 (2)4点 他各3点×2
8 (1) ア (2) 男女共同参画 (3) ウ→ア→イ	8 各3点×3 (3)完答

1 融合問題

- (1) ウは3世紀, アは7～10世紀, イは13世紀終わり。
 (3) レアメタルはハイブリッドカーや携帯電話などに使われる先端技術に不可欠なものであり, 日本はほぼすべてを海外に依存しているので, 資源の確保が大きな問題になっている。
 (4) 資料1のイはマレーシア, ウはインドネシア, エはフィリピン。資料2のアはインドネシア, イはマレーシア, ウはフィリピン。資料3のアはフィリピン, ウはインドネシア, エはマレーシア。

2 日本地理

- (2) 人口, 県内総生産が多いのでウは東京都でX, 製造品出荷額等が多いのでアは愛知県でY, 人口, 県内総生産, 小売業販売額が東京都に次いで多いことからイは大阪府でZ。
 (3) やませが寒流の千島海流(親潮)によって冷やされると, 気温が上がらず, 日照時間が少なくなり冷害を引き起こすことがある。
 (4) ① 等高線を読み取る。X付近の「560」, 「637」, 「500」, Y付近の「518.6」に着目する。
 ② ア 地形図の中央より下に小・中学校がある。
 ウ 地形図上でおよそ4cm弱あるので, $4(\text{cm}) \times 25000 = 100000(\text{cm}) = 1(\text{km})$ 。
 エ 地形図の上が北を示すので, 北東。

3 世界地理

- (1) Xは南アメリカ州, Yはアフリカ州。アのXはヨーロッパ州, Yは北アメリカ州, ウのXはアフリカ州, Yはオセアニア州, エのXはアジア州, Yは南アメリカ州。
 (2) Zはインド洋。三大洋は太平洋・大西洋・インド洋。
 (3) 明石市を通る東経135度の経線が日本の標準時子午線なので, ニューヨークとの経度差は210度。時差は経度15度で1時間なので, $210 \div 15 = 14$ で14時間になる。
 (4) ① 日本は石炭や鉄鉱石をオーストラリアから最も多く輸入しているので, a国はオーストラリア, 原油を中東地域から多く輸入していることから, b国がアラブ首長国連邦, 石炭や液化天然ガスを多く輸入していることから, c国がインドネシアとわかる。

4 歴史(飛鳥時代～江戸時代に関する問題)

- (1) 小野妹子は第1回, 第2回遣隋使となった。アとウは「万葉集」を代表する歌人, イは遣唐使として中国に渡り, 唐の皇帝に仕えて重んじられた人物である。
 (2) アは天平文化(奈良時代)を代表する東大寺正倉院, イは鎌倉文化を代表する東大寺南大門, ウは国風文化(平安時代)を代表する平等院鳳凰堂, エは東山文化(室町時代)を代表する慈照寺銀閣を示している。
 (5) ウは1669年, エは1685年, アは1709～1716年, イは1837年。

5 歴史(近代・現代史に関する問題)

- (1) アは1789年, イは1517年, ウは1917年。
 (2) アは1901年, イは1925年, エは1932年。
 (3) アは大正時代, イ・エは明治時代, ウは昭和時代。
 (5) 米騒動は, シベリア出兵を見こして米の買い占めが行われ, 米価が急騰したことにより, 1918年におきた。富山県の漁村の主婦から始まり, 全国に広がった。

6 公民(政治のしくみに関する問題)

- (2) 一方で, 裁判員に対する厳しい守秘義務や精神的負担などの問題が指摘されている。

7 公民(経済のしくみに関する問題)

- (1) 需要とは商品を買うこと, 供給とは商品売ることである。一般に需要量が供給量を上回ると価格は上がり, 需要量が供給量を下回ると価格は下がる。

8 公民(現代の社会に関する問題)

- (1) 朝鮮戦争は1950年におこった。また, ブロック経済とは, 世界恐慌に対してイギリスやフランスがとった政策。

【採点基準】

- 5 (4) 同内容で可。「日本軍」「満州国」「満州」の語(指定語句)のないものは不可。
 6 (2) 同内容で可。「判決」「国民」の語(指定語句)のないものは不可。
 7 (2) 同内容で可。「資金」「株式」の語(指定語句)のないものは不可。

[写真]正倉院宝物/悠工房/毎日新聞社/徳川美術館(順不同)

社会 第4回 解答と解説

【解答】	【配点】
1 (1) 日本 (2) ア (3) ウ→イ→ア (4) B	1 各3点×4 (3)完答
2 (1) ウ (2) 北方領土 (3) A ア B ウ C イ D エ (4) ① エ ② ウ	2 各3点×5 (3)完答
3 (1) ウ (2) ケープタウン (3) X 南アメリカ Y インド洋 (4) ドイツ 資料1 イ 資料2 カ インドネシア 資料1 ア 資料2 ケ	3 各3点×5 (3)完答 (4)それぞれ完答
4 (1) イ (2) ア→エ→イ→ウ (3) (例) 倭寇と正式な貿易船を区別する(14字) (4) エ (5) 伊能忠敬	4 (3)4点 他各3点×4 (2)完答
5 (1) 徴兵制 (2) エ (3) X ウ Y イ Z ア (4) エ (5) 自衛隊	5 (3)4点(完答) 他各3点×4
6 (1) ア (2) 原告 (3) エ	6 各3点×3
7 (1) (例) 任期が短く、解散もあり、世論をより強く反映する(23字) (2) ア (3) ウ	7 (1)4点 他各3点×2
8 (1) イ (2) (例) 私生活や個人の情報が勝手に公開されない権利。(22字)	8 (1)3点 (2)4点

1 融合問題

- (3) アは江戸時代、イは平安時代、ウは奈良時代のことである。
(4) Aは米、Cは果実、Dは小麦。

2 日本地理

- (1) 中部地方には9つの県がある。
(3) Aは山形県で庄内平野での稲作やさくらんぼの栽培がさかんなため、米と果実の産出額がともに多いのでア。Bは長野県で高原野菜の抑制栽培やりんごや桃などの栽培がさかんなため、野菜と果実の産出額がともに多いのでウ。Cは和歌山県でみかんの生産がさかんなため、果実の産出額が多いのでイ。Dは宮崎県で野菜の促成栽培や畜産がさかんなため、畜産と野菜の産出額がともに多いのでエ。
(4) ① 中央部が周辺部より標高が高くなっている地形なのでエが正解。
② ア 2万5千分の1の地形図で約11kmなので誤り。
イ 潮見公園があるので誤り。
エ 灯台があるのは志賀島橋の付近なので誤り。

3 世界地理

- (1) 地図上で千葉の左下に位置している。方位を表す記号がないので、上が北を表すことからウの南西になる。
(2) 図は正距方位図法であるため、中心からの距離と方位が正しく表されている。
(4) エ・キはメキシコ、オ・クは日本、ウ・コはイタリア。

4 歴史(古代～近世に関する問題)

- (1) アは坂上田村麻呂、ウは菅原道真、エは平清盛。
(2) アは奈良時代、エは平安時代はじめ、イは平安時代中ごろ、ウは鎌倉時代。
(3) 倭寇は、13～16世紀に朝鮮半島や中国沿岸で海賊行為をはたらいた。
(4) アは豊臣秀吉、イは中大兄皇子、ウは聖徳太子が行った。

5 歴史(近代・現代史に関する問題)

- (1) 西南戦争を最後に武力による士族の反乱は終わり、政府に対する批判は言論による自由民権運動に移っていった。
(2) イギリスはアヘン戦争に勝利して勢力を拡大していた。日本は日清戦争に勝利して台湾を手に入れていた。ドイツは膠州湾を租借していた。

- (3) Xは1911年、Yは1894年、Zは1871～1873年。
(4) アは大正時代、イは1980年代後半から1990年代前半、ウは1960年代のようす。

- (5) この時期、GHQは冷戦の激化や中華人民共和国の成立により、日本を西側陣営に入れるため、占領政策を転換するようになった。

6 公民(裁判所に関する問題)

- (3) 裁判は公開が原則である。また、日本国憲法には「司法権の独立」が規定されている。

7 公民(国会・内閣に関する問題)

- (2) イ、ウ、エはいずれも国会の仕事である。
(3) 内閣総理大臣は、国会議員の中から国会の議決によって指名され、天皇が任命する。国務大臣は、内閣総理大臣が任命するが、定員は17名までとなっており、その過半数は国会議員の中から選ばなければならない。また、内閣総理大臣、国務大臣はすべて文民でなければならない。

8 公民(日本国憲法と基本的人権に関する問題)

- (1) アは精神の自由、ウとエは経済活動の自由に含まれる。
(2) 社会の進展にともなって、新しい人権が積極的に主張されている。
○環境権⇒快適な自然・社会環境のなかで生活する権利。
○知る権利⇒情報を自由に受けとることのできる権利。
○プライバシーの権利⇒個人の生活がみだりに公開されない権利。

【採点基準】

- 4 (3) 同内容で可。「倭寇」の語(指定語句)のないものは不可。
7 (1) 同内容で可。「任期」「解散」「世論」の語(指定語句)のないものは不可。
8 (2) 同内容で可。「私生活」「個人」の語(指定語句)のないものは不可。

〔写真〕悠工房

社会 第5回 解答と解説

【解答】	【配点】
1 (1) イ→ウ→ア (2) 経済水域 (3) 栽培漁業 (4) 京葉 D 瀬戸内 A	1 各3点×4 (1)・(4)完答
2 (1) 2 (2) 日本アルプス (3) ウ (4) ① エ ② ウ	2 各3点×5
3 (1) ウ (2) エ (3) I イスラム II メッカ (4) ① ロシア B バングラデシュ D マレーシア E ② イ	3 各3点×5 (3)・(4)①完答
4 (1) ア (2) ウ→ア→エ (3) ア (4) X 検地 Y 刀狩 (5) 外様	4 各3点×5 (2)・(4)完答
5 (1) エ (2) イ (3) (例) 自作農を増やし、地主と小作農という封建的な関係を解消する(28字) (4) I ベルリン II 冷戦 (5) X イ Y ア Z ウ	5 (3)・(5)各4点×2 他各3点×3 (4)・(5)完答
6 (1) イ (2) ウ	6 各3点×2
7 (1) エ (2) ウ (3) (例) あやまちを防ぎ、国民の基本的な人権を守る(19字)	7 (3)4点 他各3点×2
8 (1) エ (2) (例) 消費者の利益を確保すること(13字) (3) イ	8 (2)4点 他各3点×2

1 融合問題

- (1) イは平安時代(939年), ウは鎌倉時代(1253年), アは明治時代(1871年)。
(2) 経済水域は沿岸国が水産資源や海底の鉱産資源を利用する権利を持つ水域であり、沿岸から200海里(約370km)が設定されている。
(3) 魚や貝類、海そうなどを、網を張った海や人工の池で管理し、大きくなるまで育てたあとにとり、養殖漁業も「育てる漁業」の一つである。
(4) 資料2から京葉工業地域に含まれる千葉県で石油・石炭製品、化学の割合が多いこと、瀬戸内工業地域に含まれる山口県でも化学、石油・石炭製品の割合が多いこと、資料3から各工業地域の石油化学コンビナートの数に着目して判断する。Bは関東内陸工業地域、Cは東海工業地域。

2 日本地理

- (1) 滋賀県と奈良県が海に面していない。
(2) 飛騨山脈は北アルプス、木曾山脈は中央アルプス、赤石山脈は南アルプスとよばれる。
(3) Aは北海道地方、Bは中部地方、Cは近畿地方、Dは九州地方。
(4) ① 縮尺が5万分の1なので、
 $4(\text{cm}) \times 50000 = 200000(\text{cm}) = 2000(\text{m})$ 。
② ア 住宅も見られる。
イ 発電所ではなく工場。
エ 南西の方向にある。

3 世界地理

- (1) 熱帯雨林の気候。アはステップ気候、イは冷帯、エは温帯湿潤気候。
(2) ゲルと呼ばれる移動や持ち運びに便利な組立型の住居。アはイヌイットの雪の家、イは高温多湿の気候に合わせた高床の家、ウは台風などに備えた沖縄などで見られる伝統的な家。
(3) イスラム教は7世紀前半にマホメットによって開かれた世界三大宗教の一つ。
(4) ② 第1次産業の割合に着目する。第1次産業の割合が最も多いのはa国でバングラデシュ、次に多いのがc国でマレーシア、日本と同じように第3次産業の割合が多いのがb国でロシア。

4 歴史(原始～近世に関する問題)

- (1) イは古墳時代、ウは弥生時代、エは旧石器時代。
(2) ウは東山文化、アは元祿文化、エは化政文化の文化財。
(3) イは奈良時代、ウは鎌倉時代、エは平安時代。

5 歴史(近代・現代史に関する問題)

- (1) アは1936年、イは1919年、ウは1932年、エは1919年。
(2) アは1918年、イは1925年、ウは1932年の五・一五事件、エは1894～1895年のできごと。
(4) ベルリンの壁は、市民が自由に往来できないように、1961年に東ドイツによって築かれた。
(5) イは1941年、アは1950～1954年、ウは1964年のできごと。

6 公民(日本国憲法と基本的人権に関する問題)

- (1) 公共の福祉とは、個人の権利の行使に際して社会全体の利益を考えることである。基本的人権は何よりも優先的に尊重され、それが制限されるのは公共の福祉に反するときだけである。

7 公民(政治のしくみと裁判に関する問題)

- (1) 小選挙区比例代表制は、小選挙区制と比例代表制の長所をいかし、費用がかからない選挙、国民の意見を受け入れやすい選挙の実現をめざしている。

8 公民(経済のしくみに関する問題)

- (1) 株式会社は資本を小額の株式(株)に分割し、株券を発行して多くの人々から資金を集める。株式は、そのときの株価で自由に売買できる。出資者である株主は、株数に応じて利潤の分配を受ける(配当金)。また、会社が倒産したときなど、出資額の範囲内で損失を負担する(有限責任)。

【採点基準】

- 5 (3) 同内容で可。「自作農」「小作農」「地主」の語(指定語句)のないものは不可。
- 7 (3) 同内容で可。「あやまち」「基本的人権」の語(指定語句)のないものは不可。
- 8 (2) 同内容で可。「消費者」の語(指定語句)のないものは不可。

【写真】PANA / アマナイメージズ / 悠工房 / 東京国立博物館 Image : TNM Image Archives / 徳川美術館(順不同)